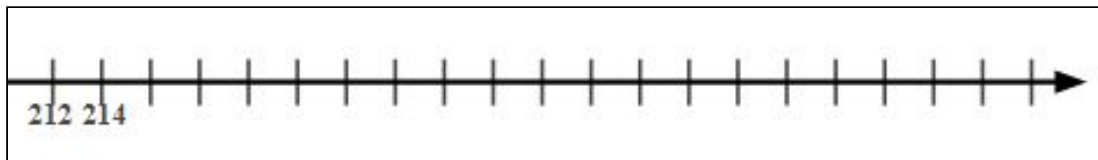


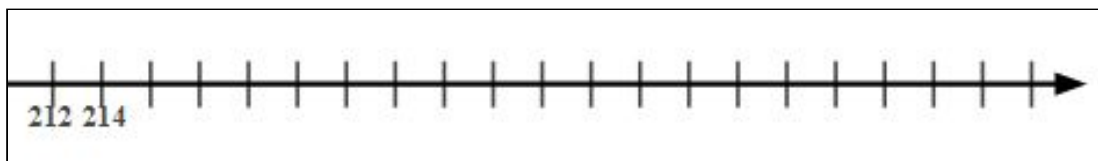
SABENDO QUE OS INTERVALOS ENTRE UMA MARCAÇÃO E OUTRA SÃO DE MESMO TAMANHO, REPRESENTE E RESOLVA NA RETA NUMERADA A ADIÇÃO:

$$214 + 18 =$$



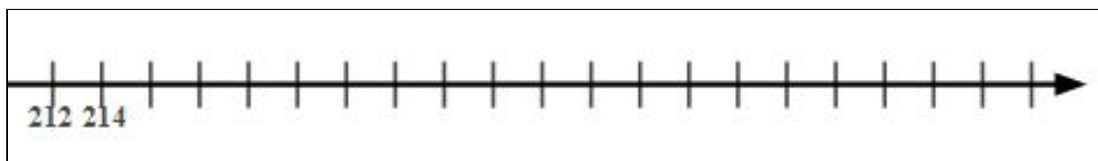
SABENDO QUE OS INTERVALOS ENTRE UMA MARCAÇÃO E OUTRA SÃO DE MESMO TAMANHO, REPRESENTE E RESOLVA NA RETA NUMERADA A ADIÇÃO:

$$214 + 18 =$$



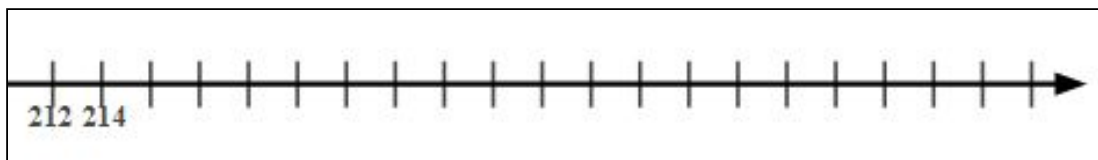
SABENDO QUE OS INTERVALOS ENTRE UMA MARCAÇÃO E OUTRA SÃO DE MESMO TAMANHO, REPRESENTE E RESOLVA NA RETA NUMERADA A ADIÇÃO:

$$214 + 18 =$$



SABENDO QUE OS INTERVALOS ENTRE UMA MARCAÇÃO E OUTRA SÃO DE MESMO TAMANHO, REPRESENTE E RESOLVA NA RETA NUMERADA A ADIÇÃO:

$$214 + 18 =$$



SABENDO QUE OS INTERVALOS ENTRE UMA MARCAÇÃO E OUTRA SÃO DE MESMO TAMANHO, REPRESENTE E RESOLVA NA RETA NUMERADA A ADIÇÃO:

$$214 + 18 =$$

