


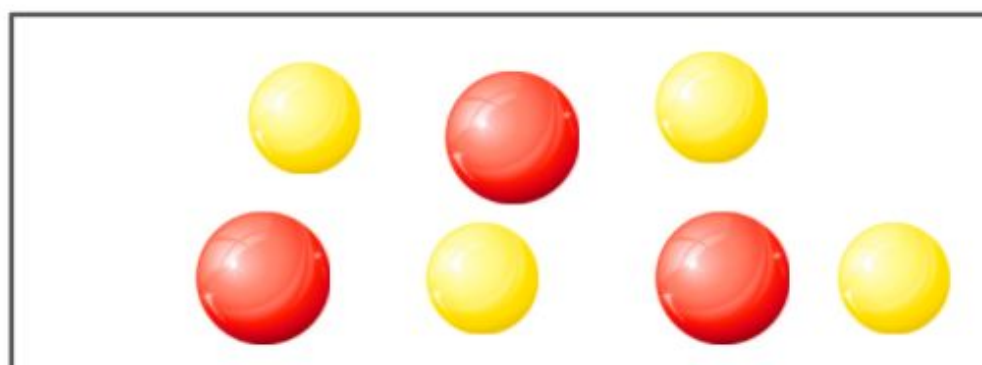


QUANTAS BOLAS VOCÊ VÊ? COMPLETE O REGISTRO ABAIXO:

$$\square + \square = \square$$



QUANTAS BOLAS VOCÊ VÊ? COMPLETE O REGISTRO ABAIXO:

$$\square + \square = \square$$

