



Resolução do raio x - MAT2_12ALG04

JOANA FOI SEPARAR AS FRUTAS DE SUA AVÓ PARA PREPARAR UMA DELICIOSA SALADA DE FRUTAS. SEGUINDO UMA RECEITA DA FAMÍLIA, ELA ADICIONOU CADA UMA A PARTIR DE UM PADRÃO. QUANTOS E QUAIS SÃO OS ELEMENTOS AUSENTES NA SEQUÊNCIA ORGANIZADA POR JOANA?




Resolução:

1 - O aluno pode enumerar as linhas e perceber que a primeira linha está completa, e a segunda que deveria seguir o padrão da primeira possui ausentes 2 elementos, 1 pêra e 1 maçã. Na terceira linha possui mais dois elementos ausentes, 1 pêra e 1 par de cerejas.



2 - O aluno pode enumerar as frutas e encontrar os elementos 3 e 8 ausentes na segunda linha, veja:



Já na 3ª linha encontrar os elementos 2 e 5 ausentes:

