







1. DANIEL E SEU IRMÃO GOSTA MUITO DE ANDAR DE PATINS! ELE TINHA NA SUA CARTEIRA TRÊS CÉDULAS DE R\$ 50,00 E UMA DE R\$ 20,00. A IDEIA ERA COMPRAR UM PAR PARA ELE E OUTRO PARA O IRMÃO. CONSIDERANDO O VALOR QUE DANIEL TEM, QUAIS PATINS DANIEL PODERÁ COMPRAR, LEVANDO DOIS PARES?

 <p>PATINS DE RODAS DE GEL R\$ 85,00</p>	 <p>PATINS COM RODAS LUMINOSAS R\$ 100,00 PROMOÇÃO! LEVE 1 E COM MAIS R\$ 50,00 LEVE UM PATINS BÁSICO.</p>	 <p>PATINS RODAS RETRÔ R\$ 65,00</p>
--	--	--

1. DANIEL E SEU IRMÃO GOSTA MUITO DE ANDAR DE PATINS! ELE TINHA NA SUA CARTEIRA TRÊS CÉDULAS DE R\$ 50,00 E UMA DE R\$ 20,00. A IDEIA ERA COMPRAR UM PAR PARA ELE E OUTRO PARA O IRMÃO. CONSIDERANDO O VALOR QUE DANIEL TEM, QUAIS PATINS DANIEL PODERÁ COMPRAR, LEVANDO DOIS PARES?

 <p>PATINS DE RODAS DE GEL R\$ 85,00</p>	 <p>PATINS COM RODAS LUMINOSAS R\$ 100,00 PROMOÇÃO! LEVE 1 E COM MAIS R\$ 50,00 LEVE UM PATINS BÁSICO.</p>	 <p>PATINS RODAS RETRÔ R\$ 65,00</p>
--	--	--