



- 1) Como podemos representar na figura os lados de um quadrado cuja medida é desconhecida?




- 2) Quais estratégias você pode usar para desenvolver as expressões abaixo?
A) $5 \cdot (3+1) =$
B) $2 \cdot (a - 2) =$
-

- 1) Como podemos representar na figura os lados de um quadrado cuja medida é desconhecida?



- 2) Quais estratégias você pode usar para desenvolver as expressões abaixo?
A) $5 \cdot (3+1) =$
B) $2 \cdot (a - 2) =$
-

- 1) Como podemos representar na figura os lados de um quadrado cuja medida é desconhecida?



- 2) Quais estratégias você pode usar para desenvolver as expressões abaixo?
A) $5 \cdot (3+1) =$
B) $2 \cdot (a - 2) =$
-