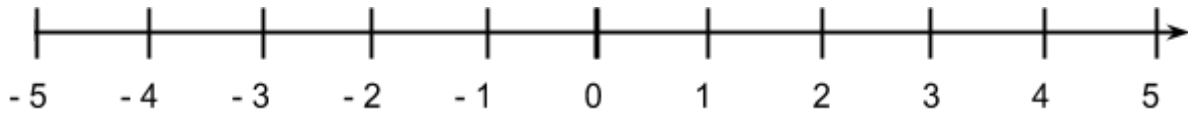


Quais estratégias aprendidas hoje você poderia usar para solucionar o problema abaixo?

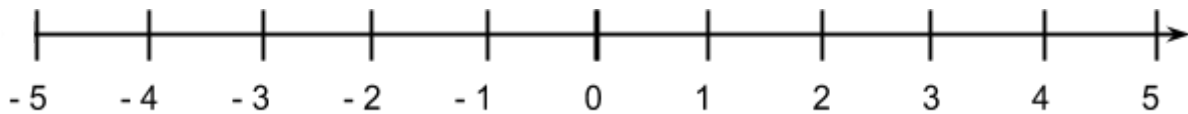
Recorte a reta numerada abaixo e siga as instruções.



- a) Dobrando a reta no ponto 0, quais foram os números que se coincidiram? Como esses números são chamados?
 - b) Quais as características que esses números possuem?
 - c) Ao dobrar o papel em um ponto diferente do 0, os números que coincidirem serão os mesmos que no item "a"?
-
-

Quais estratégias aprendidas hoje você poderia usar para solucionar o problema abaixo?

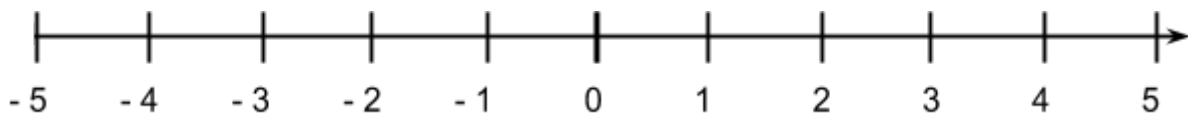
Recorte a reta numerada abaixo e siga as instruções.



- a) Dobrando a reta no ponto 0, quais foram os números que se coincidiram? Como esses números são chamados?
 - b) Quais as características que esses números possuem?
 - c) Ao dobrar o papel em um ponto diferente do 0, os números que coincidirem serão os mesmos que no item "a"?
-
-

Quais estratégias aprendidas hoje você poderia usar para solucionar o problema abaixo?

Recorte a reta numerada abaixo e siga as instruções.



- a) Dobrando a reta no ponto 0, quais foram os números que se coincidiram? Como esses números são chamados?
- b) Quais as características que esses números possuem?
- c) Ao dobrar o papel em um ponto diferente do 0, os números que coincidirem serão os mesmos que no item "a"?

-