
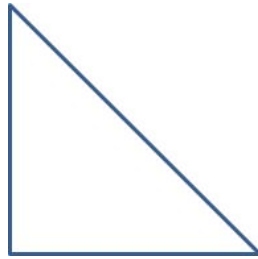
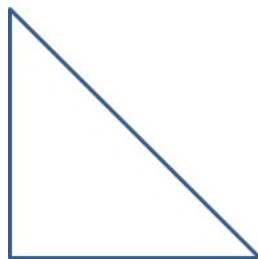


Com a régua, meça os lados das figuras abaixo e depois calcule seus perímetros e áreas.



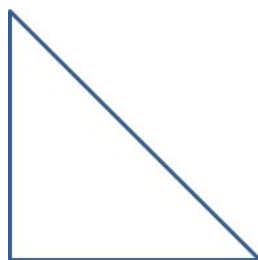
---

Com a régua, meça os lados das figuras abaixo e depois calcule seus perímetros e áreas.



---

Com a régua, meça os lados das figuras abaixo e depois calcule seus perímetros e áreas.



---

Com a régua, meça os lados das figuras abaixo e depois calcule seus perímetros e áreas.

