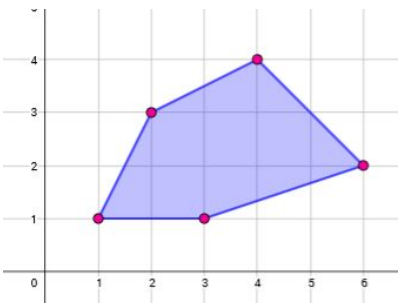
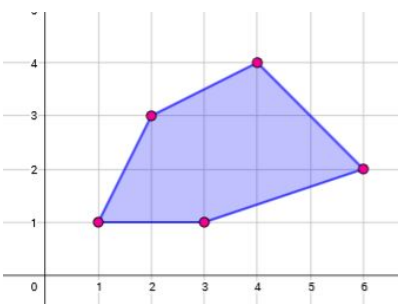


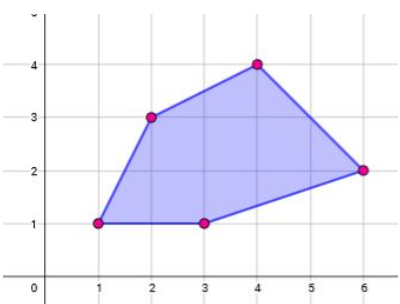
Construa em uma folha de papel quadriculado uma ampliação desta figura na razão 3, multiplicando as coordenadas de seus vértices



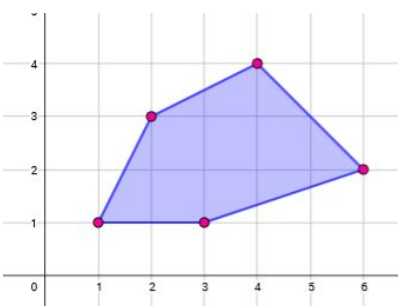
Construa em uma folha de papel quadriculado uma ampliação desta figura na razão 3, multiplicando as coordenadas de seus vértices



Construa em uma folha de papel quadriculado uma ampliação desta figura na razão 3, multiplicando as coordenadas de seus vértices



Construa em uma folha de papel quadriculado uma ampliação desta figura na razão 3, multiplicando as coordenadas de seus vértices



Construa em uma folha de papel quadriculado, uma ampliação desta figura na razão 3, multiplicando as coordenadas de seus vértices