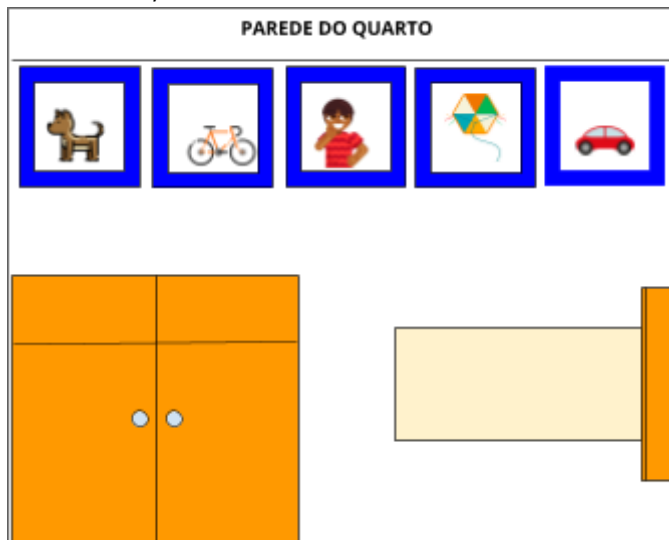
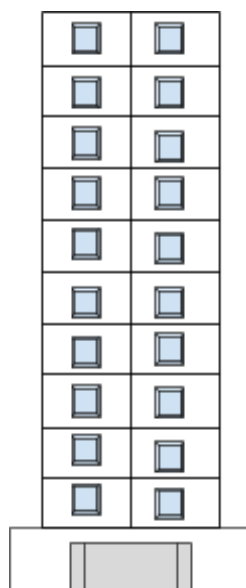


1- CAUÊ FOI AJUDAR OS PAIS A COLOCAR PAPEL DE PAREDE NO SEU QUARTO. NA HORA DE COMPRAR O PAPEL DE PAREDE SEUS PAIS SE ESQUECERAM DE LEVAR AS MEDIDAS. CAUÊ LEMBROU QUE SEUS QUADRO TÊM 50 CM. DE QUE MANEIRA , CAUÊ PODE ENCONTRAR A MEDIDA DA PAREDE DO SEU QUARTO?




2. CAROLINA GOSTA DE FICAR CONTANDO OS ANDARES DOS PRÉDIOS. DEPOIS DA AULA DE MEDIDAS QUE TEVE NA ESCOLA, ELA AGORA QUER SABER TAMBÉM A ALTURA DOS PRÉDIOS. ONDE ELA MORA CADA JANELA TEM 1,20 M. OBSERVE:



QUANTOS METROS TEM APROXIMADAMENTE O PRÉDIO ONDE CAROLINA MORA, CONSIDERANDO O TÉRREO.

DESAFIO

DURANTE O PASSEIO QUE ROBERTA FEZ DE TREM , LEU CURIOSIDADE SOBRE O MEIO DE TRANSPORTE. ELA DESCOBRIU QUE CADA PLACA DE MADEIRA QUE FORMA OS TRILHOS TEM 4 METROS DE COMPRIMENTO. ASSIM, QUANTOS METROS APROXIMADAMENTE TÊM CADA VAGÃO DO TREM?



4 METROS