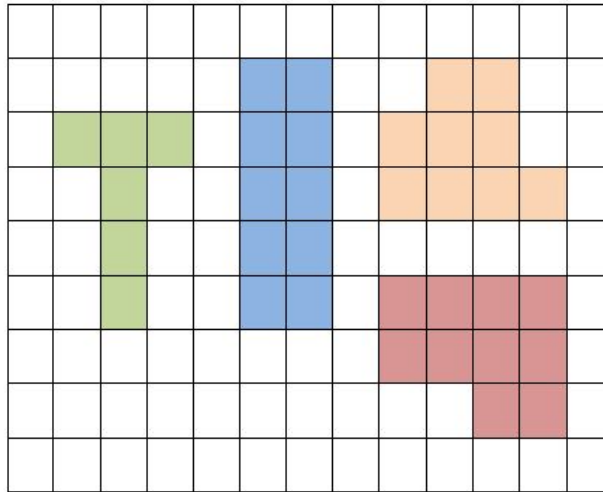


Atividade

Calcule o perímetro e a área de cada figura. Observe as medidas encontradas e responda:

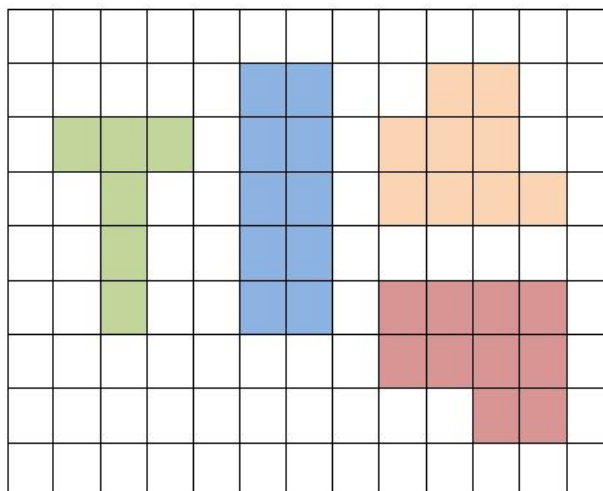
- O que ocorre com as medidas de perímetros das figuras?
- E com as medidas das áreas das figuras?
- O que pode-se concluir ao comparar o perímetro e a área de todas elas?
(malha quadriculada de 1cm X 1cm)



Atividade

Calcule o perímetro e a área de cada figura. Observe as medidas encontradas e responda:

- O que ocorre com as medidas de perímetros das figuras?
- E com as medidas das áreas das figuras?
- O que pode-se concluir ao comparar o perímetro e a área de todas elas?
(malha quadriculada de 1cm X 1cm)



Atividade

Na malha quadriculada de 1cm X 1cm, estão desenhadas figuras coloridas. Complete a tabela com as medidas do perímetro e área de cada uma das figuras. Depois diga qual a relação existente entre as figuras ao comparar suas medidas.

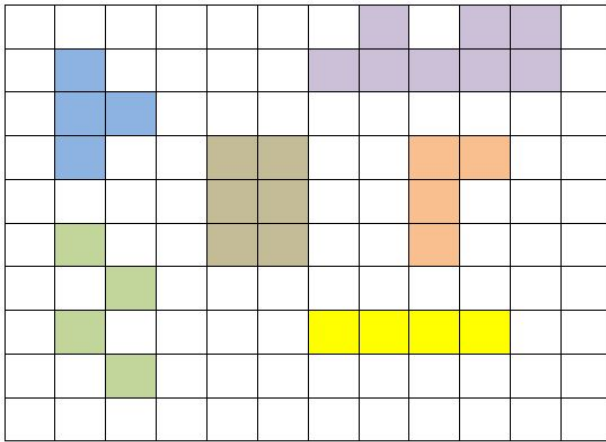


Figura	Perímetro	Área
Azul		
Verde		
Marrom		
Roxo		
Laranja		
Amarelo		

Atividade

Na malha quadriculada de 1cm X 1cm, estão desenhadas figuras coloridas. Complete a tabela com as medidas do perímetro e área de cada uma das figuras. Depois diga qual a relação existente entre as figuras ao comparar suas medidas.

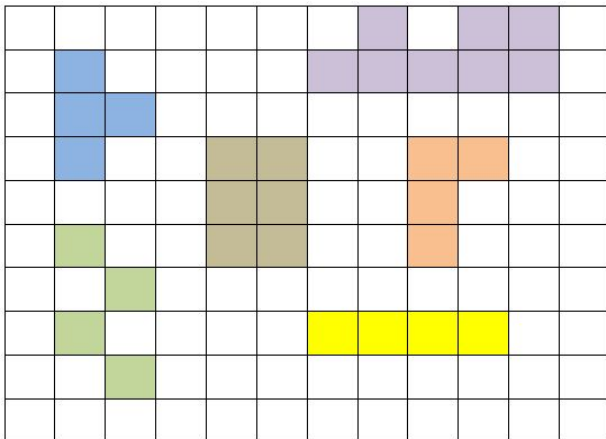


Figura	Perímetro	Área
Azul		
Verde		
Marrom		
Roxo		
Laranja		
Amarelo		

Desafio

Com a folha de malha quadriculada, de 1cm X 1cm, que seu professor entregou, desenhe formas que tenham como medida de seu contorno 14cm. Faça quantos forem possíveis. Calcule as áreas de cada uma, compare-as e responda:
Qual a relação que você pode encontrar entre elas?

Desafio

Com a folha de malha quadriculada, de 1cm X 1cm, que seu professor entregou, desenhe formas que tenham como medida de seu contorno 14cm. Faça quantos forem possíveis. Calcule as áreas de cada uma, compare-as e responda:
Qual a relação que você pode encontrar entre elas?

Desafio

Com a folha de malha quadriculada, de 1cm X 1cm, que seu professor entregou, desenhe formas que tenham como medida de seu contorno 14cm. Faça quantos forem possíveis. Calcule as áreas de cada uma, compare-as e responda:
Qual a relação que você pode encontrar entre elas?

Desafio

Com a folha de malha quadriculada, de 1cm X 1cm, que seu professor entregou, desenhe formas que tenham como medida de seu contorno 14cm. Faça quantos forem possíveis. Calcule as áreas de cada uma, compare-as e responda:
Qual a relação que você pode encontrar entre elas?

Desafio

Com a folha de malha quadriculada, de 1cm X 1cm, que seu professor entregou, desenhe formas que tenham como medida de seu contorno 14cm. Faça quantos forem possíveis. Calcule as áreas de cada uma, compare-as e responda:
Qual a relação que você pode encontrar entre elas?