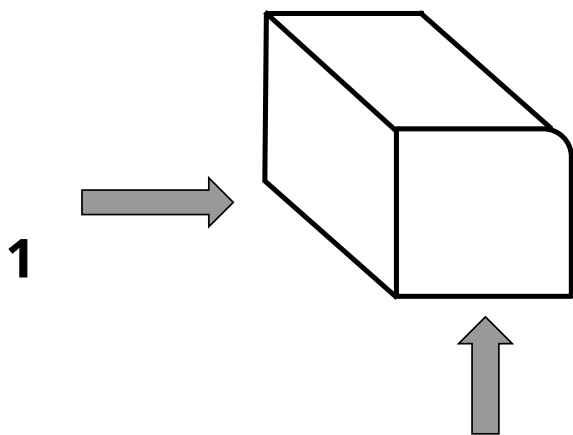


ATIVIDADES COMPLEMENTARES

1) Observe a figura abaixo e responda:



Kommentar [1]: Coloque o título: Atividades complementares.


Kommentar [2]: CORRIGIDO

2

a) Se uma menina estiver na posição "1", como será a face lateral que ela verá, pode ser um polígono? Faça o desenho da face que a menina observou e explique.

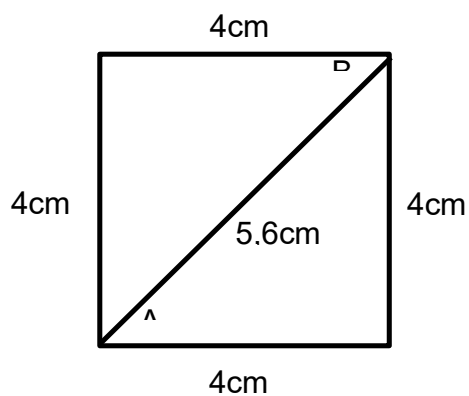
b) Se um menino estiver na posição "2", como será a face lateral que ele verá, pode ser um polígono? Por quê? Faça o desenho da face que o menino observou.

2) Dentre as figuras abaixo qual é a porcentagem de figuras que são polígonos?



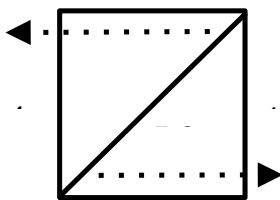
DESAFIO

3) Uma folha de papel, quando dobrada forma a figura abaixo com as seguintes medidas:



Desdobrando essa folha, o vértice "A" vai para a direita e o vértice "B" vai para a esquerda.

a) Desenhe a folha desdobrada. Quantos lados o polígono formado tem?



b) Qual será o valor da soma dos lados da folha desdobrada?