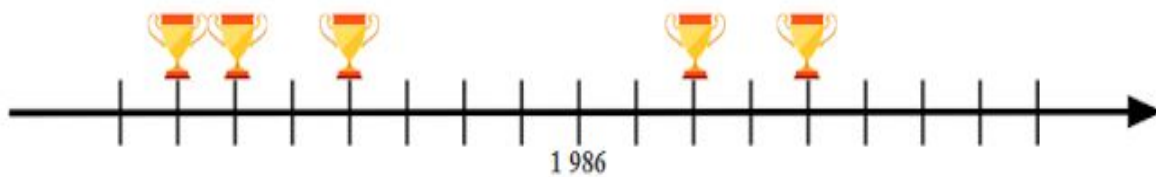


Resolução da Atividade Principal - MAT3_03NUM04

Painel de Solução


ETAPA 1

COMPLETANDO A RETA COM ALGUNS ANOS EM QUE A COPA ACONTECEU, VOCÊ DESCOBRIRÁ QUANDO O BRASIL FOI CAMPEÃO DESSA COMPETIÇÃO. LEMBRE-SE QUE OS INTERVALOS SÃO SEMPRE OS MESMOS. EM SEGUIDA RESPONDA AS QUESTÕES.

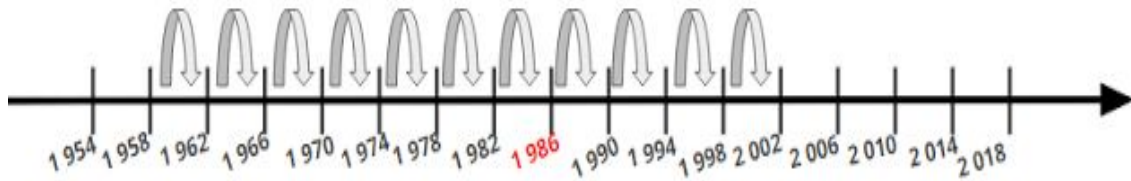


- EM QUAIS ANOS O BRASIL FOI CAMPEÃO?
- O ÚLTIMO TÍTULO DO BRASIL FOI CONQUISTADO 44 ANOS APÓS O PRIMEIRO. REPRESENTE NA RETA E COM UMA OPERAÇÃO.
- APÓS QUANTOS ANOS DO TÍTULO DE TRICAMPEÃO, O BRASIL CONQUISTOU O TETRACAMPEONATO? REPRESENTE NA RETA E COM UMA OPERAÇÃO.
- EM QUE ANO SERÁ A PRÓXIMA COPA DO MUNDO?

Resultado da reta completa:



- EM QUAIS ANOS O BRASIL FOI CAMPEÃO?
O Brasil foi campeão nos anos de 1 958, 1962, 1 970, 1 994 e 2 002.
- O ÚLTIMO TÍTULO DO BRASIL FOI CONQUISTADO 44 ANOS APÓS O PRIMEIRO. REPRESENTE NA RETA E COM UMA OPERAÇÃO.

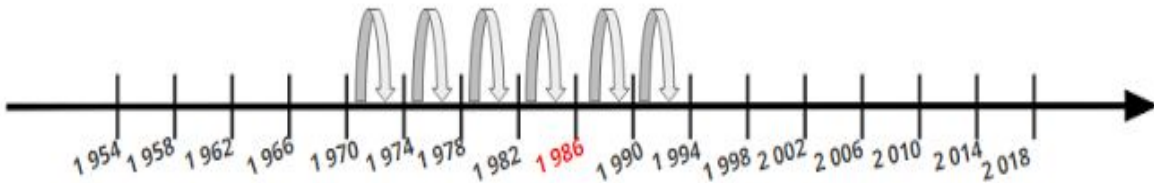


$$1\ 958 + 4 + 4 + 4 + 4 + 4 + 4 + 4 + 4 + 4 + 4 + 4 = 2\ 002$$

Nessa representação o aluno contou termo a termo. $1\ 958 + 4 + 4 + 4 + 4 + 4 + 4 + 4 + 4 + 4 + 4 + 4 = 2\ 002$

Pode haver outras possibilidades.

- APÓS QUANTOS ANOS DO TÍTULO DE TRICAMPEÃO, O BRASIL CONQUISTOU O TETRACAMPEONATO? REPRESENTE NA RETA E COM UMA OPERAÇÃO.



Nessa representação o aluno contou termo a termo. $1\ 970 + 4 + 4 + 4 + 4 + 4 + 4 = 1\ 994$.

Pode haver outras possibilidades.

- EM QUE ANO SERÁ A PRÓXIMA COPA DO MUNDO?
A próxima copa do mundo será realizada em 2 018.

ETAPA 2

ATÉ O ANO DE 2014 TIVEMOS 20 EDIÇÕES DA COPA DO MUNDO.



