













Resolução da atividade principal - MAT3-06NUM03 -

<p>Na loja de dona Mariana tem 1000 pulseiras femininas e 580 pulseiras masculinas. Qual é a diferença entre as quantidades?</p>	 <p>420</p>	<p>Na papelaria tem 1000 cartolinas amarelas e 720 brancas. Quantas cartolinas brancas tem a menos?</p>	 <p>280</p>
<p>Antes da festa de aniversário de Pedrinho tinha 1200 balões. agora tem 800 balões. Quantos balões tem a menos?</p>	 <p>400</p>	<p>Antônio comprou 200 figurinhas e seu primo tem 980 a mais que ele. Quantas figurinhas Antônio seu primo tem?</p>	 <p>1180</p>
<p>André tem 1000 selos de cartas e sua irmã tem 540. Quantos selos de carta sua irmã precisa para ter a mesma quantidade de André?</p>	 <p>460</p>	<p>Thiago tem 700 bolinhas de gude. Marcelo tem 450 bolinhas a mais que Thiago. Quantas bolinhas Marcelo tem?</p>	 <p>1150</p>

<p>No cesto verde tem 1200 bolas e no cesto azul tem 990. Quantas bolas tem a menos no cesto azul?</p>	 <p>210</p>	<p>Em uma prateleira tem 1000 frascos e na outra 810. Qual é a diferença de frascos.</p>	 <p>190</p>
<p>Dona Joana lavou 1000 peças de roupa em uma semana e 250 peças a mais na outra semana. Qual foi a quantidade de peças que ela lavou na segunda semana?</p>	 <p>1250</p>	<p>Qual a diferença entre os numerais 1100 e 910?</p>	 <p>190</p>
<p>Na granja do sr. Felipe tem 1500 galinhas e 800 pintinhos. Quantas galinhas tem a mais que pintinhos?</p>	 <p>700</p>	<p>Miguel quer saber quantas figurinhas tem o João. Miguel tem 300 e João tem 900 a mais que ele. Quantas figurinhas tem o João?</p>	 <p>1200</p>

É esperado que os alunos cheguem ao final do jogo com as cartas combinadas dessa forma. Caso não cheguem, é preciso que voltem aos pares de cartas descartadas e revejam em que momento do jogo, um par foi descartado com resultado trocado.