




Atividade Raio X MAT1_16GRM04

CAUÊ TEM R\$50,00. ELE PRECISA COMPRAR OS ITENS ABAIXO. DEFINA O VALOR DA PIZZA DE FORMA QUE EXISTA TROCO, POIS CAUÊ PRECISA ECONOMIZAR ORGANIZE E REGISTRE SUAS IDEIAS. UTILIZE CÉDULAS E MOEDAS.

R\$ 50,00






R\$ 3,80

SOBRA:

CAUÊ TEM R\$50,00. ELE PRECISA COMPRAR OS ITENS ABAIXO. DEFINA O VALOR DA PIZZA DE FORMA QUE EXISTA TROCO, POIS CAUÊ PRECISA ECONOMIZAR ORGANIZE E REGISTRE SUAS IDEIAS. UTILIZE CÉDULAS E MOEDAS.

R\$ 50,00



R\$ 3,80

SOBRA:
