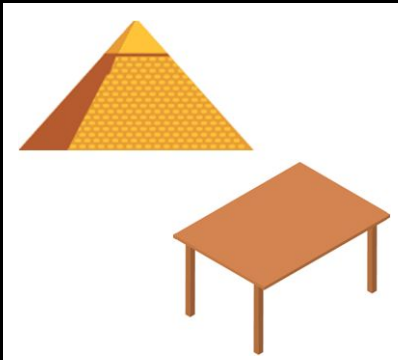




ATIVIDADES COMPLEMENTARES MAT1_09GEO07

1) DESENHE OBJETOS QUE CONTENHAM AS FIGURAS PLANAS: QUADRADO, RETÂNGULO E TRIÂNGULO EM SUAS FACES.



2) PRESTE ATENÇÃO NOS ELEMENTOS ABAIXO E CIRCULE O QUE TEM A FIGURA GEOMÉTRICA PLANA QUE SE PEDE.

TRIÂNGULO	RETÂNGULO	QUADRADO
		

3) **DESAFIO:** HOJE FOI A MINHA FESTA DE ANIVERSÁRIO E GANHEI ALGUNS PRESENTES.

EU ESTAVA OBSERVANDO E CONSEGUI ENCONTRAR ALGUMAS FIGURAS GEOMÉTRICAS PLANAS NAS CAIXAS DOS PRESENTES. SERÁ QUE VOCÊ TAMBÉM CONSEGUE ENCONTRAR? DESENHE O QUE DESCOBRIU.



