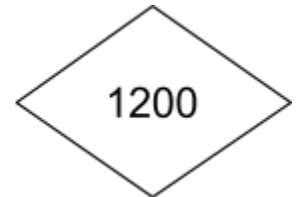
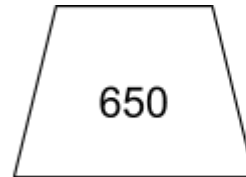



Resoluções das atividades complementares - MAT3-06NUM03 -

1) Sua professora vai ditar alguns problemas. você vai calcular mentalmente e registrar o resultado nas formas geométricas abaixo:



Ditado do professor(a):

Quadrado: Vinícius tinha 300 bolinhas e Diego tem 750 bolinhas a mais. Quantas bolinhas Diego tem?

Triângulo: Cristina fez 250 docinhos nessa semana. Na semana passada ela fez 1100. Quantos docinhos ela fez a menos nessa semana?

Círculo: Michele vendeu 450 botões de rosa na feira. Sua concorrente vendeu 1000. Quantos botões de rosa sua concorrente vendeu a mais?

Trapézio: Bianca comprou 1000 bombons para distribuir para os alunos de sua escola no dia do estudante. No dia vieram 350 alunos a menos. Quantos bombons ela distribuiu?

Losango: Júlio tem 400 selos e seu amigo Daniel tem 800 selos a mais que ele. Quantos selos tem Daniel?

2) Calcule quanto cada número abaixo tem a mais do que 500.

1100 600 1050 550 1210 710 1000 500 1300 800

3) **Desafio:** João Paulo e Fernando têm juntos 980 figurinhas. Sabendo que Fernando tem 380 figurinhas a mais que João Paulo, calcule a quantidade de figurinhas das duas crianças.

João Paulo tem 300 figurinhas e Fernando tem 680 figurinhas.

4) Calcule mentalmente e marque a 2ª coluna de acordo com a 1ª:

(A) 300 A MAIS QUE 1000

(C) 1000

(B) 400 A MENOS QUE 1050

(B) 650

(C) 690 A MAIS QUE 310

(A) 1300

(D) 800 A MENOS QUE 1250

(D) 450

