

Atividades complementares - MAT103NU

1) VAMOS CONTAR?
COMPLETE AS TABELAS.

DE 1 EM 1

1		3		5		7		9	
---	--	---	--	---	--	---	--	---	--

DE 2 EM 2

2		6		10		14		18	
---	--	---	--	----	--	----	--	----	--

2) OBSERVE AS TABELAS NUMÉRICAS E SIGA OS COMANDOS:

VOCÊ ESTÁ NO NÚMERO 4. ANDE MAIS 2 CASAS E FAÇA UMA MARCA.

1	2	3	4	5	6	7	8	9	10
---	---	---	---	---	---	---	---	---	----






VOCÊ ESTÁ NO NÚMERO 6. QUANTAS CASAS DEVERÁ ANDAR PARA CHEGAR ATÉ O 8?

1	2	3	4	5	6	7	8	9	10
---	---	---	---	---	---	---	---	---	----

-

[DESAFIO]

CADA CRIANÇA RECEBEU UMA SENHA PARA PARTICIPAR DE UMA BRINCADEIRA, OBSERVE OS NÚMEROS E DESCUBRA A PRIMEIRA SENHA?

				
?	4	6	8	10
