

## Atividades complementares MAT1\_16GRM04




- 1) OBSERVE OS BRINQUEDOS E SEUS PREÇOS. OBSERVE TAMBÉM OS POSSÍVEIS VALORES DE "TROCO". AGORA, IMAGINE QUE VOCÊ TEM O VALOR DE R\$ 50,00 E FAÇA A CORRESPONDÊNCIA ENTRE OS VALORES E TROCO ABAIXO:

PREÇO DOS BRINQUEDOS	TROCO
 <b>URSO DE PELÚCIA</b> R\$ 24,00	<b>R\$ 33,00</b>
 <b>AVIÃOZINHO</b> R\$ 17,00	<b>R\$ 41,10</b>
 <b>PIÃO</b> R\$ 8,90	<b>R\$ 26,00</b>

---

## Atividades complementares MAT1\_16GRM04


2) SE CAUÊ TEM R\$ 27,00, QUANTO FALTARÁ PARA COMPLETAR A COMPRA DE CADA PRODUTO?

 <b>UM PAR DE TÊNIS</b> <b>R\$ 45,00</b>	
 <b>JOGO DE MONTAR</b> <b>R\$ 36,00</b>	
 <b>NAVE</b> <b>R\$ 50,00</b>	

---

3. [DESAFIO]

CONTE MENTALMENTE OS VALORES ABAIXO:

	
---	--

Atividades complementares MAT1\_16GRM04

