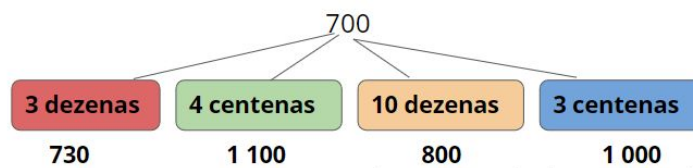
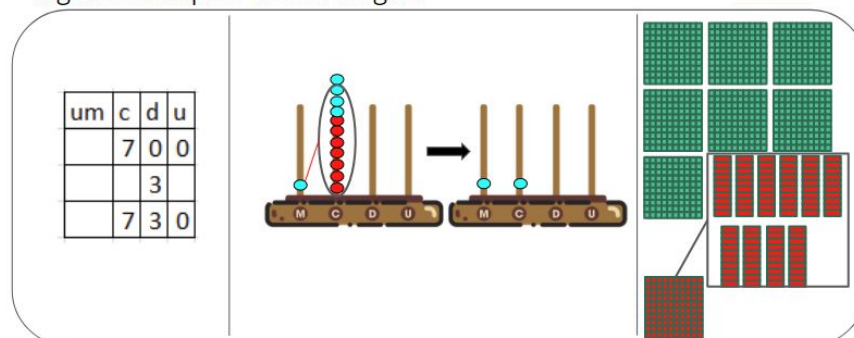


**Resolução das atividades complementares -  
MAT3\_02NUM05 - Relação entre unidade, dezena, centena e  
unidade de milhar**

**1) ACRESCENTE AS INFORMAÇÕES DOS QUADROS COLORIDOS, AO NÚMERO 700 (SETECENTOS), E ESCREVA EM ALGARISMOS TODOS OS NÚMEROS QUE ENCONTRAR. REGISTRE COMO VOCÊ PENSOU PARA FORMAR OS NÚMEROS.**




Alguns exemplos de estratégias



QUAIS AS CORES DOS QUADROS QUE JUNTAMENTE COM O NÚMERO 700 FORMAM UM NÚMERO DE 4 ORDENS?

**RESPOSTA: VERDE E AZUL**

**2) DÊ O VALOR POSICIONAL DO ALGARISMO 8 (OITO) DOS BALÕES ABAIXO.**



**3) OBSERVANDO OS BALÕES ACIMA RESPONDA COLOCANDO O NÚMERO QUE ESTÁ NO BALÃO:**

**A) A SOMA DOS ALGARISMOS DA SEGUNDA E DA QUARTA ORDEM É 6: **6 208.****

**B) POSSUI O MAIOR VALOR POSICIONAL NA TERCEIRA ORDEM: **5 823.****