



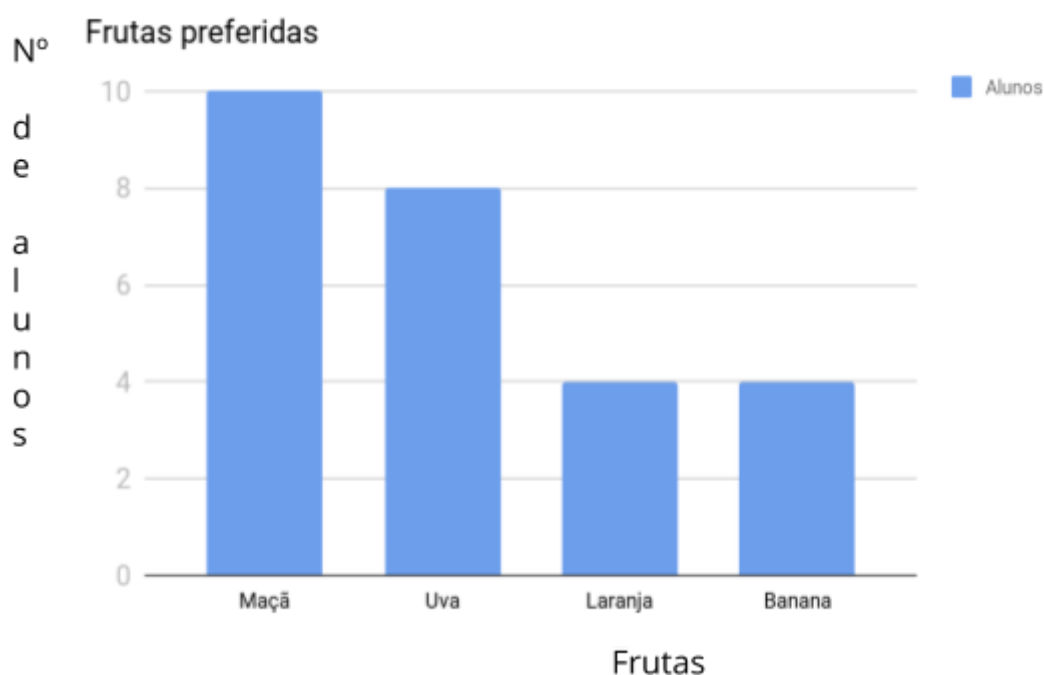


Maria é professora do 4º ano e está trabalhando conceitos sobre Estatística com sua turma. Para desenvolver uma pesquisa com seus alunos ela levou à sala 4 tipos de fruta para que os alunos escolhessem sua preferida.

Frutas				
Nº de alunos	<input type="checkbox"/> <input type="checkbox"/>	<input type="checkbox"/> <input type="checkbox"/>	<input type="checkbox"/>	<input type="checkbox"/>

De acordo com os dados apresentados, responda:

- Qual a fruta preferida pelos alunos?
- Quantos alunos preferem uva?
- Quantos alunos participaram desta pesquisa?
- Um dos alunos resolveu fazer o gráfico abaixo, a partir das escolhas de frutas.



- Você acha que este gráfico está correto? Por quê?
 - Construa um gráfico de colunas a partir dos dados da tabela e compare com o gráfico feito pelo aluno da professora Maria.
-