

Resolução da atividade principal - MAT9_24PES03

Gráficos - Barras / Setores / Histogramas (Ampliação)

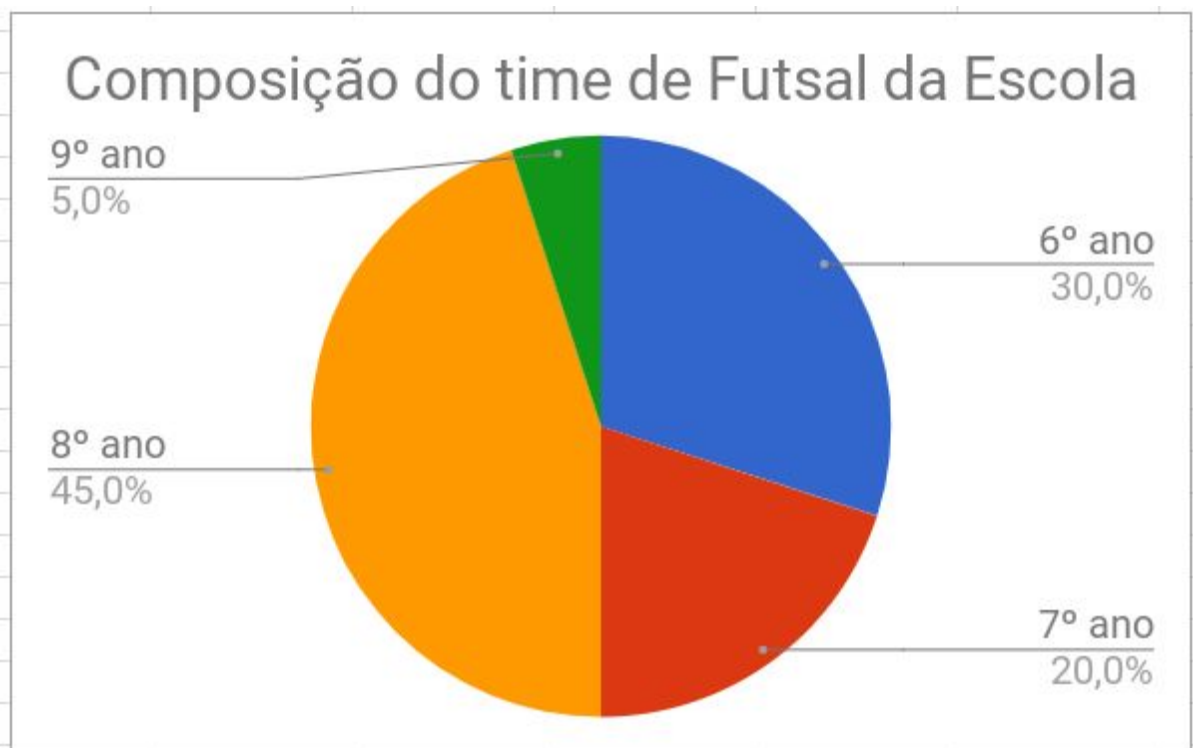
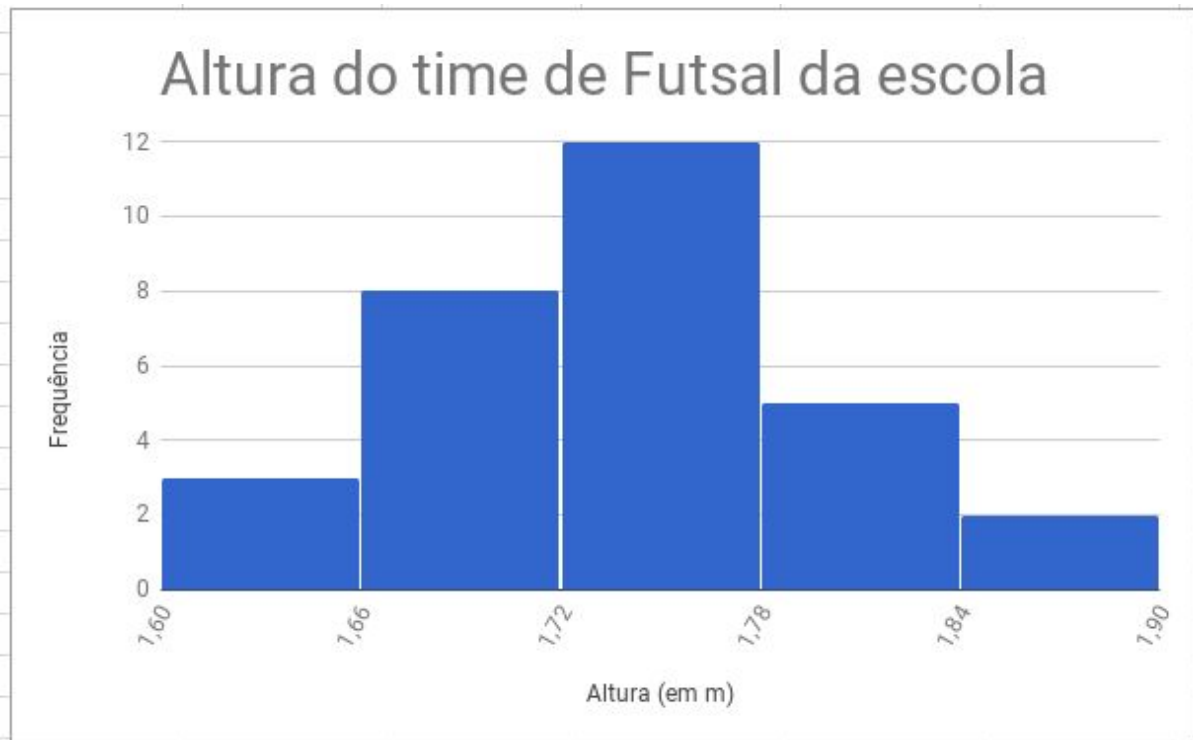
Ativida: Suponha que o time de futsal da sua escola venha tendo uma especial atenção porque está se destacando no campeonato entre as escolas da cidade. O professor de educação física resolveu motivar os alunos e fez mapeamentos para ampliar os resultados, apresentando-os nas seguintes tabelas. Que tal vocês ajudarem e construirém os gráficos?

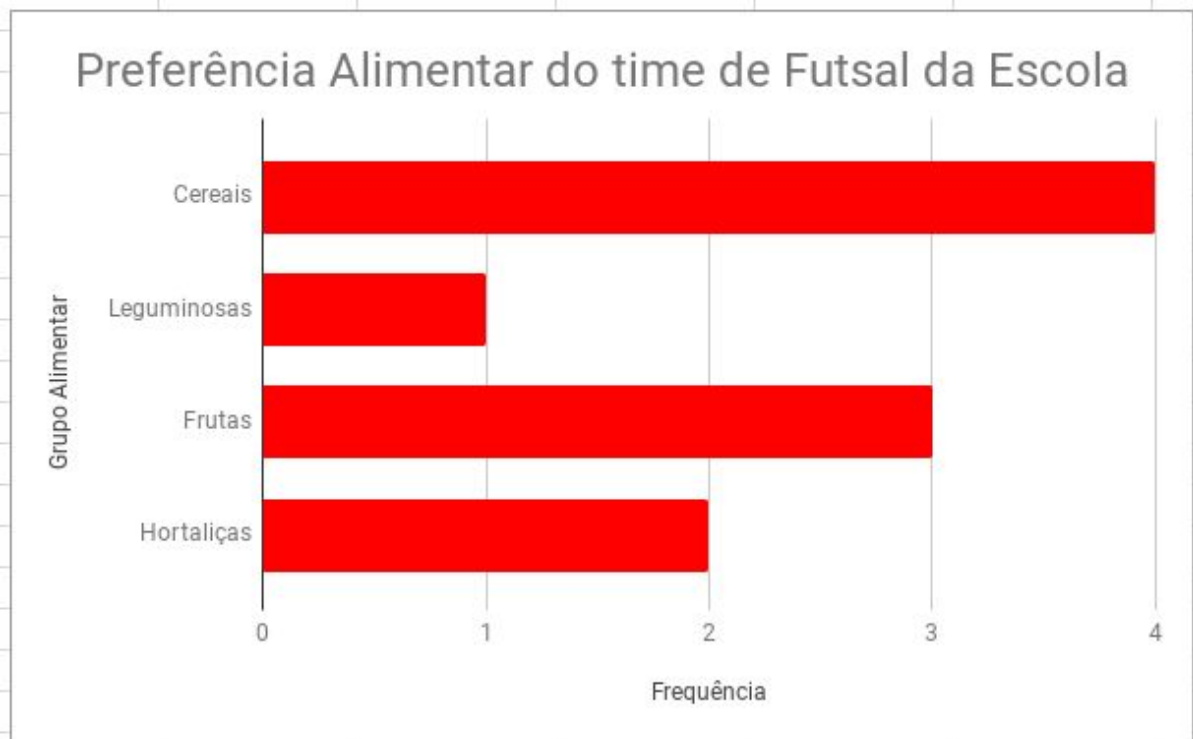
| Alturas (em m) | Frequência |
|-----------------------|-------------------|
| 160 ----- 165 | 1 |
| 165 ----- 170 | 4 |
| 170 ----- 175 | 12 |
| 175 ----- 180 | 8 |
| 180 ----- 185 | 3 |
| 185 ----- 190 | 2 |

| Turma | Frequência (%) |
|--------------|-----------------------|
| 6º ano | 30 |
| 7º ano | 20 |
| 8º ano | 45 |
| 9º ano | 5 |

| Grupo Alimentar | Frequência |
|------------------------|-------------------|
| Cereais | 4 |
| Leguminosas | 1 |
| Frutas | 3 |
| Hortaliças | 2 |

Resposta ideal (caso seja utilizada planilha eletrônica):





Para ver a Resposta diretamente na Planilha eletrônica, [clique aqui](#).