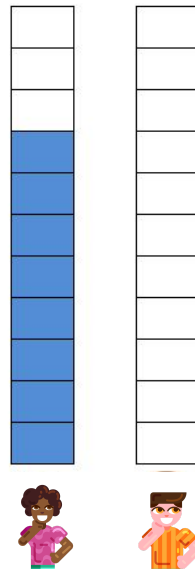


1) ANA OUVIU DIZER QUE A MAIORIA DOS PROFESSORES SÃO MULHERES. RESOLVEU INVESTIGAR EM SUA ESCOLA. DESCUBRA QUANTAS SALAS DE AULA DA ESCOLA DA ANA TEM PROFESSORES HOMENS. SABENDO QUE SÃO 10 SALAS, E 8 SALAS TEM PROFESSORAS, PINTE NO GRÁFICO.



GÊNERO DOS PROFESSORES DA ESCOLA DE ANA

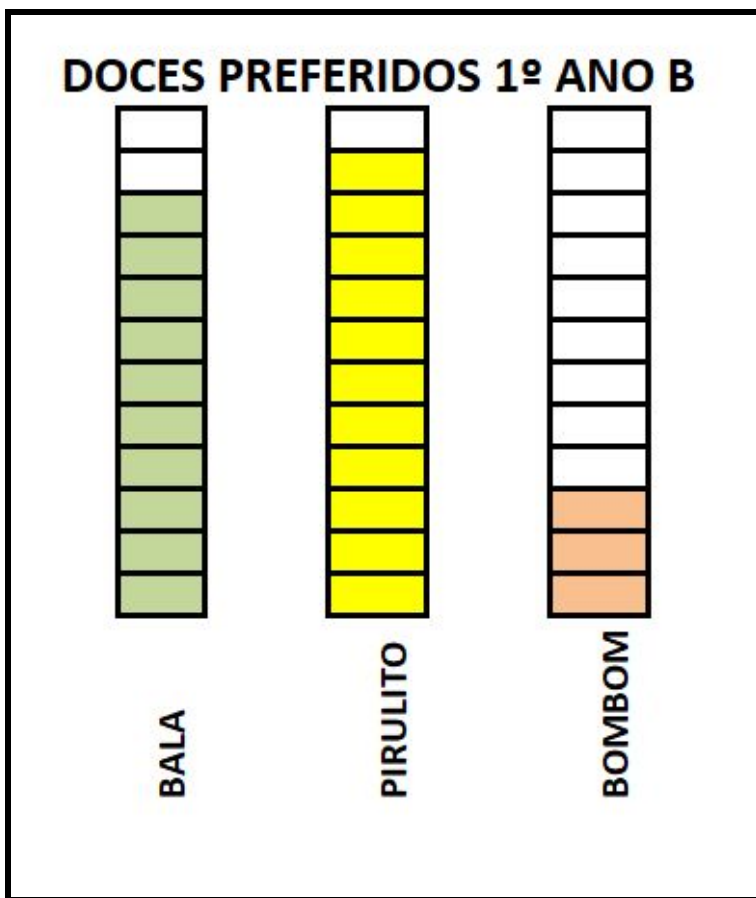
As crianças devem isolar as informações necessárias para resolver o problema. Elas têm o grupo amostral/total de pessoas que participaram e, de uma parte desse total, elas precisam encontrar a outra parte. Podem, portanto, completar o 8 até chegar no total 10, ou podem ir tirando de 10 até chegar em 8, entre outras estratégias.

2) SABENDO QUE O DOCE PREFERIDO DO 1º ANO B É PIRULITO, COMPLETE O GRÁFICO.

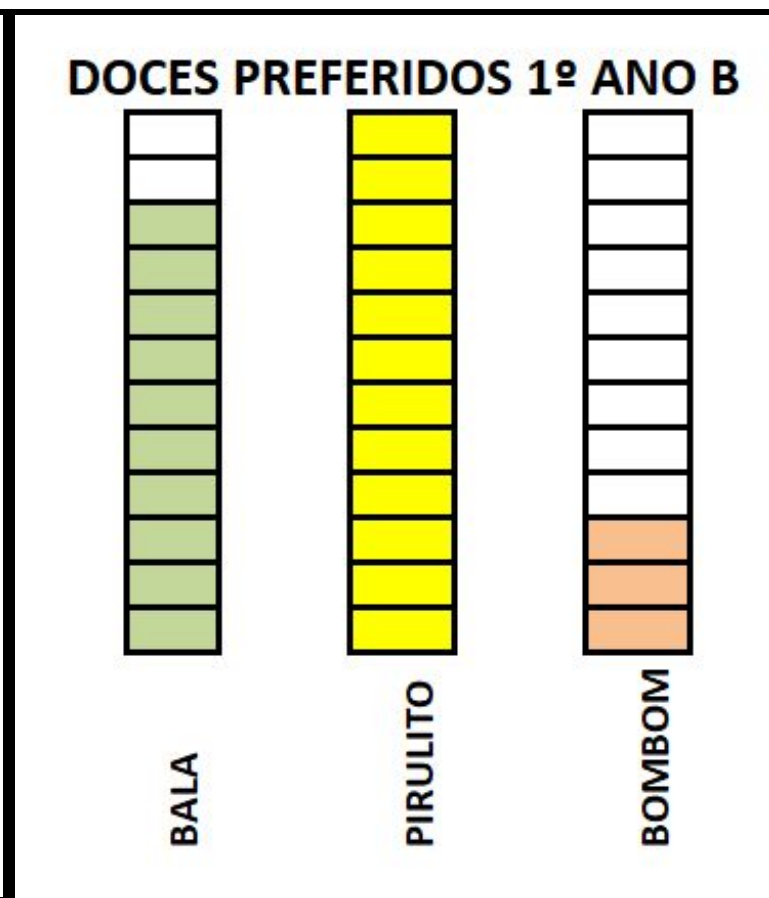
As crianças devem pensar que a única barra que não está completa é a de pirulito, e que a informação que elas têm sobre o pirulito é sobre ele ser o doce preferido, então, a coluna ou número de crianças que gostam dele precisa ser o(a) maior. O número maior que aparece já preenchido é o 8, referente à bala, logo, o de pirulito deve ser maior, ou 9 ou 10, porque a escala só vai até 10 no eixo de quantidade.

Existem duas possíveis resoluções:

**Opção 1**



**Opção 2**



**[Desafio]** SABENDO QUE O MAMÍFERO QUE VIVE MAIS TEMPO É O GOLFINHO E O QUE VIVE MENOS É A ONÇA. DESCUBRA A QUE MAMÍFERO PERTENCE CADA BARRA DO GRÁFICO.

Os estudantes devem extrair do enunciado as duas informações bases para resolver o problema, que o golfinho é o mamífero que vive mais, logo, a coluna maior é a que representa seu tempo de vida. A mesma coisa com a onça, que tem o menor tempo de vida, logo, a menor coluna é a sua e, conseqüentemente, a que sobra é a do morcego.

