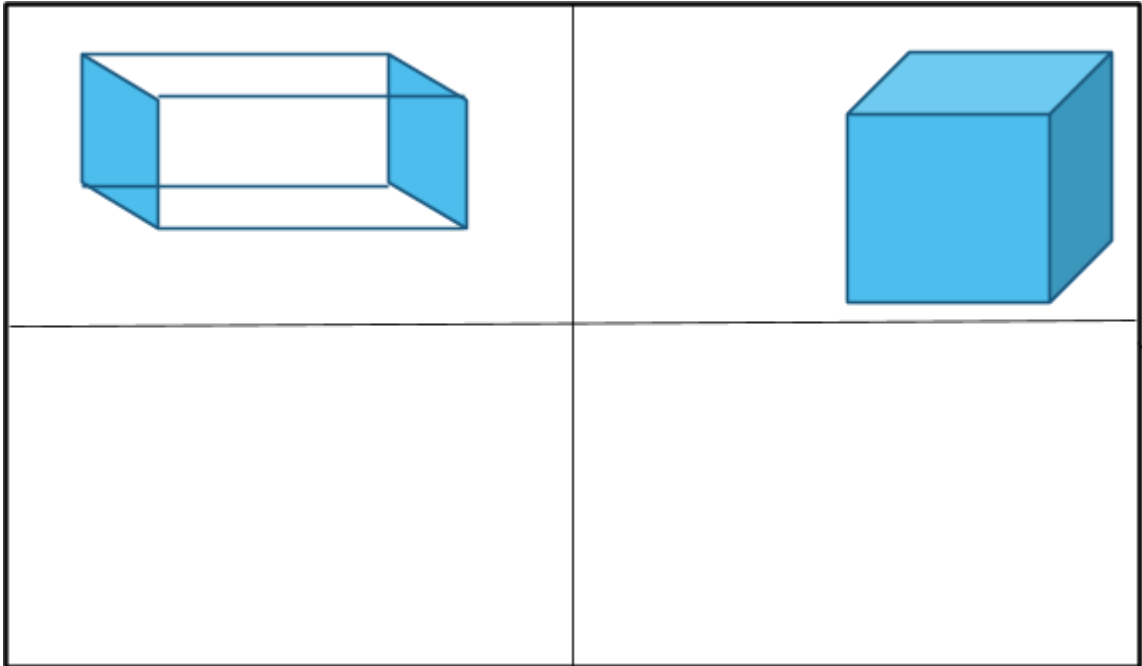


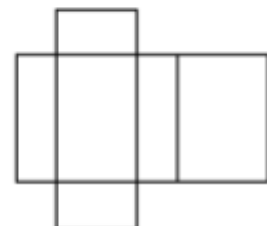
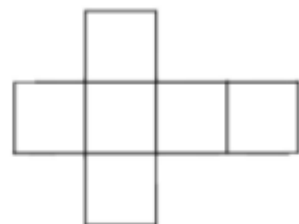
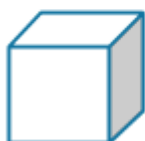
Atividades complementares - MAT3_16GEO04

- 1) OBSERVE AS FIGURAS GEOMÉTRICAS NÃO PLANAS CUBO E PARALELEPÍPEDO, ABAIXO DESENHE AS SUAS RESPECTIVAS PLANIFICAÇÕES.



- 2) AS PLANIFICAÇÕES DAS FIGURAS GEOMÉTRICAS NÃO PLANAS SÃO FORMADAS A PARTIR DAS FIGURAS GEOMÉTRICAS PLANAS. SABENDO DISSO, CITE QUAIS SÃO AS FIGURAS PLANAS QUE ESTÃO PRESENTE NAS PLANIFICAÇÕES DO CUBO E DO PARALELEPÍPEDO.

- 3) PINTE DA MESMA COR A FIGURA GEOMÉTRICA E A SUA RESPECTIVA PLANIFICAÇÃO.



4) DESCREVA AS DIFERENÇAS ENCONTRADAS NAS PLANIFICAÇÕES DO CUBO E DO PARALELEPÍPEDO. ALÉM DESTAS DIFERENÇAS, EXISTE UMA FORMA PLANA QUE PODE ESTAR PRESENTE NAS DUAS PLANIFICAÇÕES. QUAL É ESTA FORMA? FAÇA UM DESENHO DELA.

DESAFIO

AGORA QUE VOCÊ CONHECE AS PLANIFICAÇÕES DO CUBO E DO PARALELEPÍPEDO, COMPLETE O QUE ESTÁ FALTANDO EM CADA UMA!

