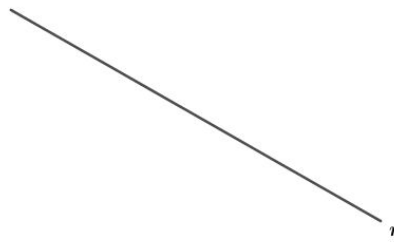
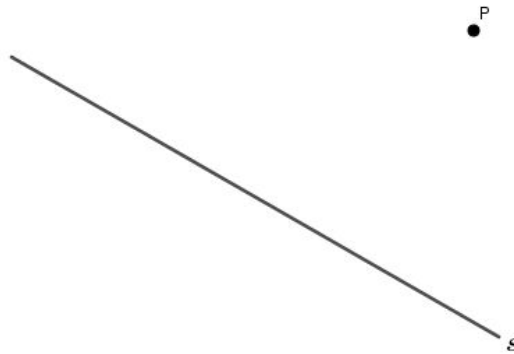


Trace, com reta e esquadro, duas retas perpendiculares à reta r dada.

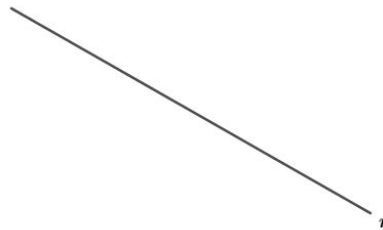


Trace, com régua e esquadro, uma reta perpendicular a s , que passe pelo ponto P .




Vamos agora construir um triângulo retângulo. Como você faria? É possível a construção apenas com régua e esquadro?

Trace, com reta e esquadro, duas retas perpendiculares à reta r dada.



Trace, com régua e esquadro, uma reta perpendicular a s , que passe pelo ponto P .



Vamos agora construir um triângulo retângulo. Como você faria? É possível a construção apenas com régua e esquadro?