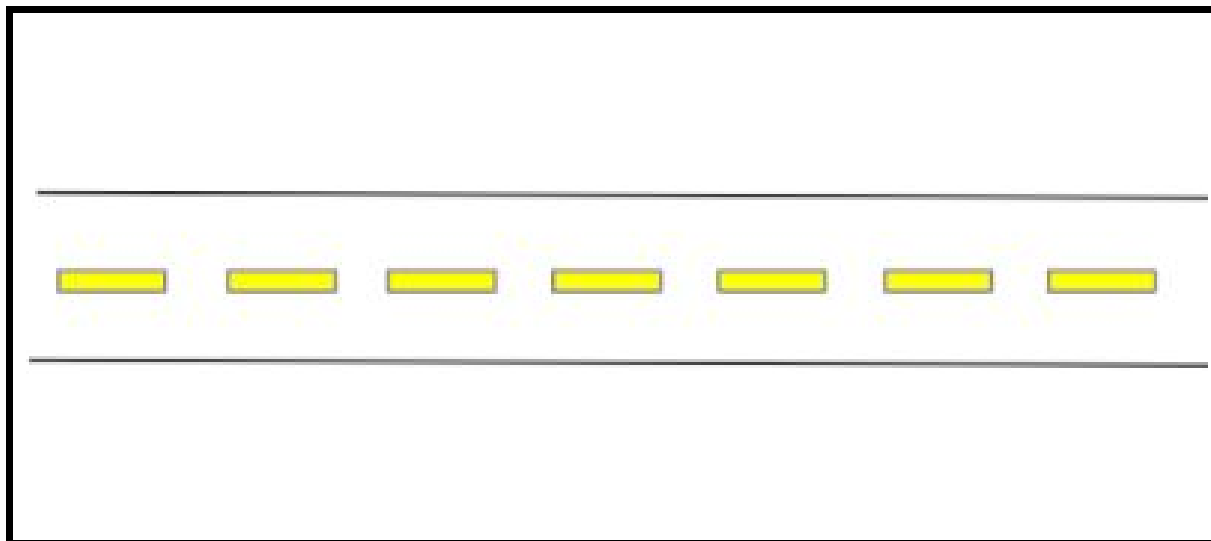


Atividades Complementares - MAT2_14GEO04

1) DÊ UM NOME PARA ESTA RUA E ESCOLHA QUATRO ELEMENTOS PARA FAZER A PLANTA BAIXA:

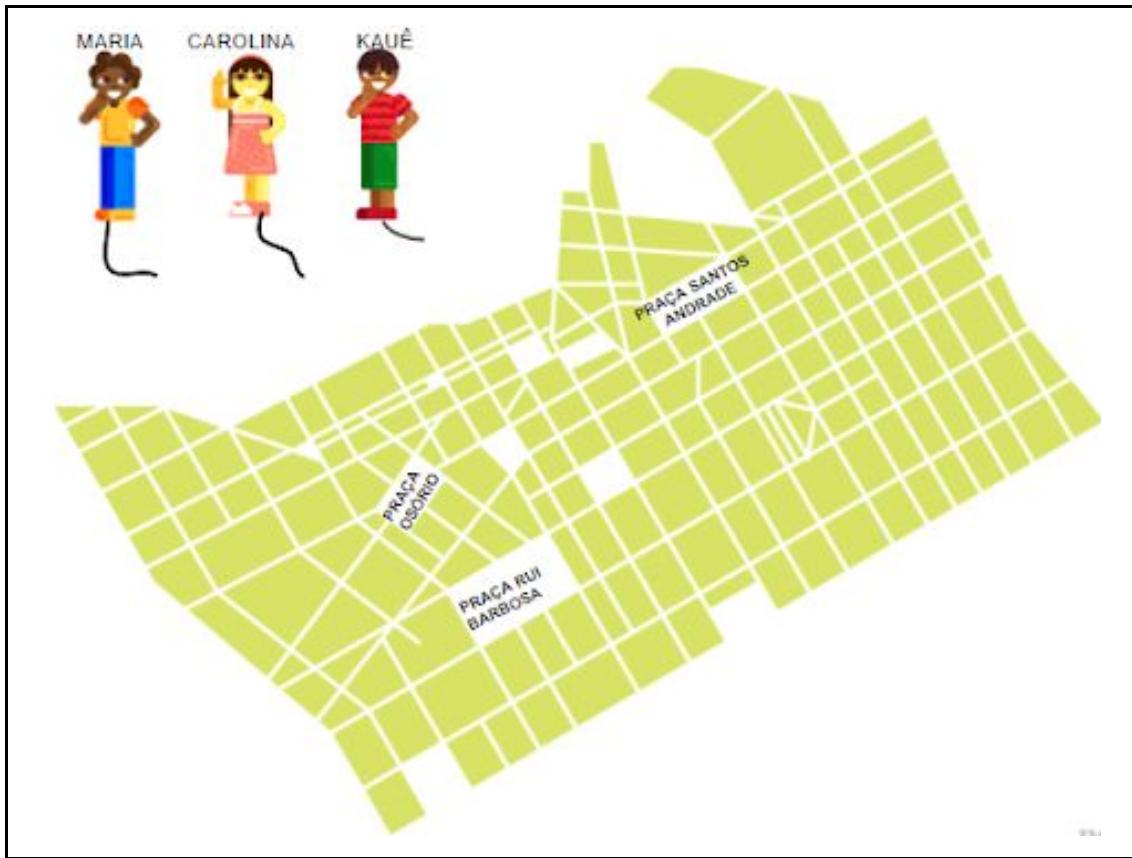


| | | |
|------------|--------|------------------------|
| MINHA CASA | ÔNIBUS | PEDRINHAS DE BRILHANTE |
| GANGORRA | JARDIM | ÁRVORE |
| LAGO | ESCOLA | BANCO |


2) MARIA, CAROLINA E KAUÊ QUEREM ENCONTRAR SEUS AMIGOS NAS PRAÇAS DE CURITIBA, NO ESTADO DO PARANÁ.

- MARIA VAI ATÉ A PRAÇA RUI BARBOSA.
- CAROLINA ATÉ A PRAÇA OSÓRIO.
- KAUÊ NA PRAÇA SANTOS ANDRADE.

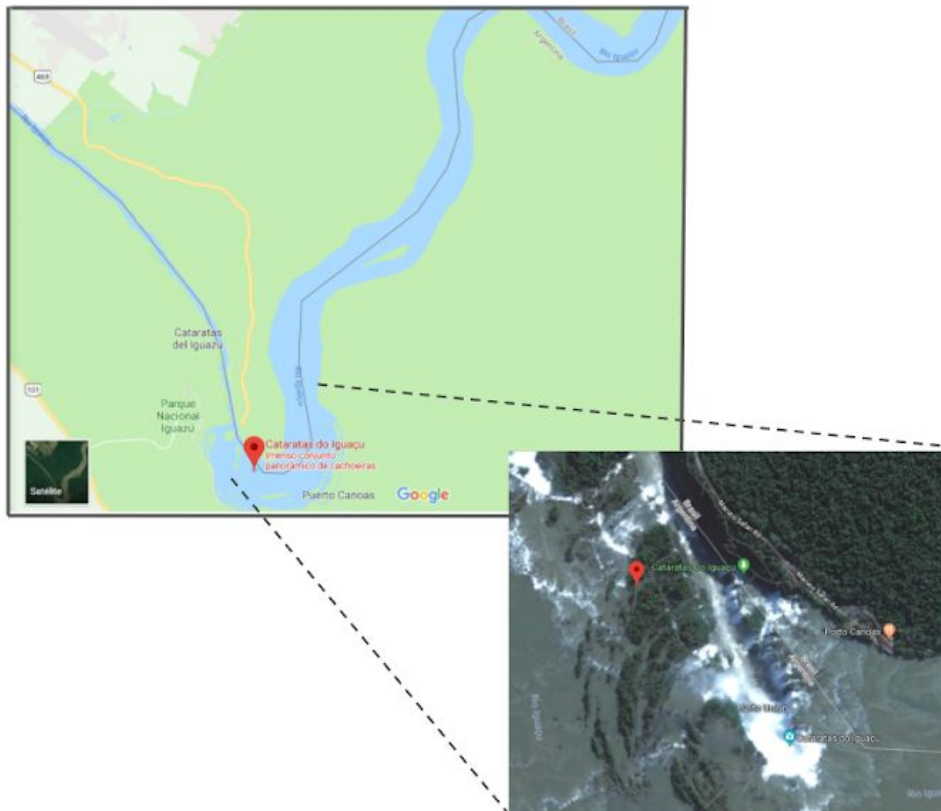
CONTINUE OS TRAJETOS, FAZENDO O CAMINHO MAIS CURTO PARA QUE ELES POSSAM CHEGAR LOGO.



DESAFIO:



OS AMIGOS PAULO E RAFAEL CONHECERAM O **ESTADO DO PARANÁ** VIAJANDO NUM BALÃO E FICARAM ENCANTADOS COM A VISTA DAS **CATARATAS DO IGUAÇU**.



TAMBÉM VIRAM A FAMOSA **ÓPERA DE ARAME** EM CURITIBA E CONSEGUIRAM
POUSAR LÁ PERTO PORQUE JÁ ESTAVAM COM FOME.
PINTE NO MAPA ABAIXO O CAMINHO QUE PAULO E RAFAEL PERCORREM DA
ÓPERA DE ARAME ATÉ CHEGAR NA **PANIFICADORA E CONFEITARIA ÓPERA**.

