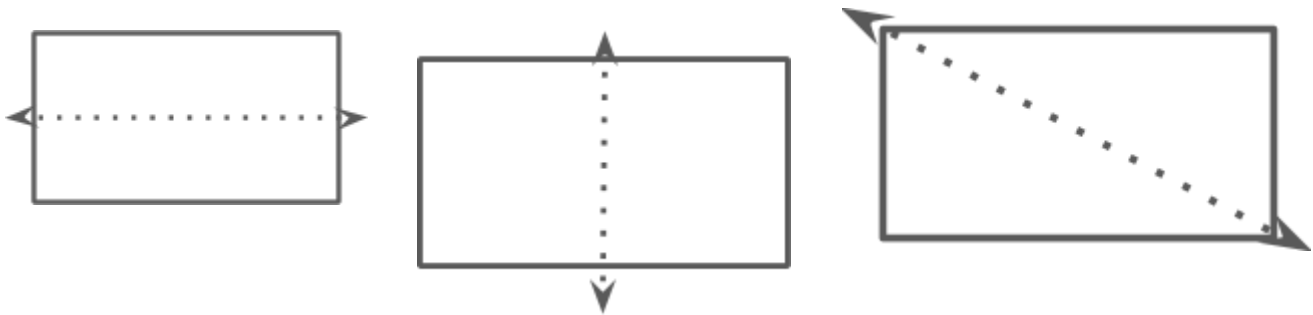


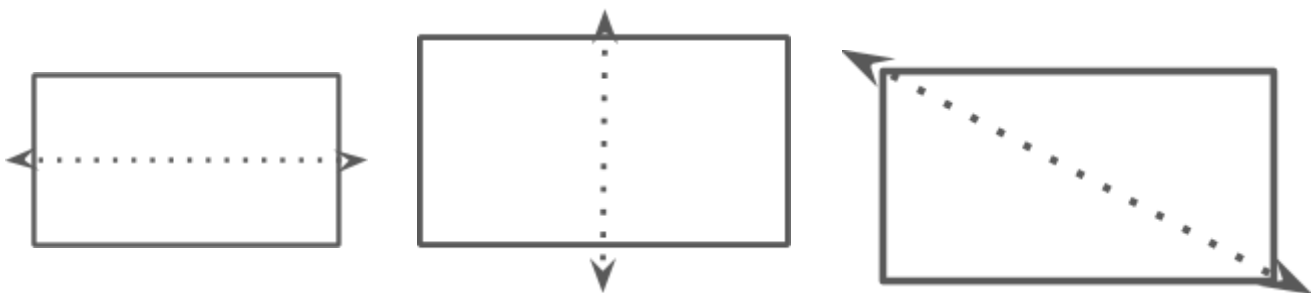
ATIVIDADE DO RAIO X - MAT2_17GEO 05

PEGUE UMA FOLHA DE PAPEL SULFITE, FAÇA DOBRADURAS NAS LINHAS INDICADAS COM PONTILHADOS.



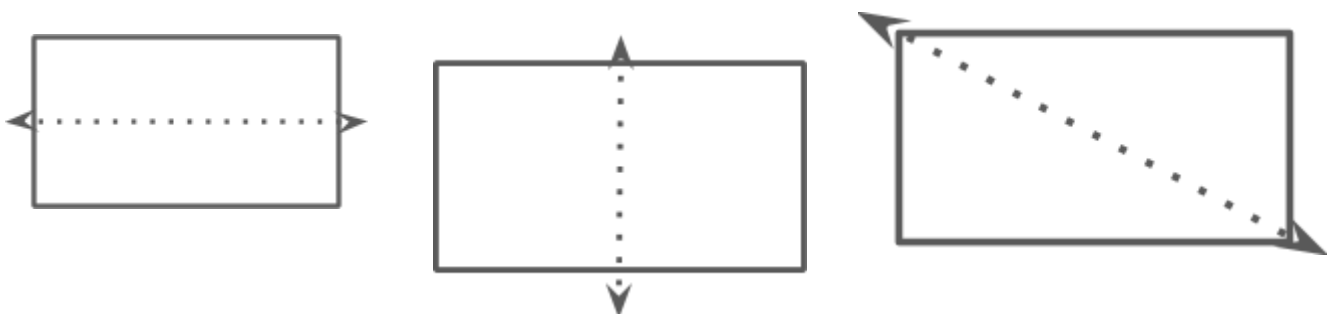
QUAIS DESSAS LINHAS INDICAM, NA FIGURA, UM EIXO DE SIMETRIA?
PINTE DA SUA COR PREFERIDA.

PEGUE UMA FOLHA DE PAPEL SULFITE, FAÇA DOBRADURAS NAS LINHAS INDICADAS COM PONTILHADOS.



QUAIS DESSAS LINHAS INDICAM, NA FIGURA, UM EIXO DE SIMETRIA?
PINTE DA SUA COR PREFERIDA.

PEGUE UMA FOLHA DE PAPEL SULFITE, FAÇA DOBRADURAS NAS LINHAS INDICADAS COM PONTILHADOS.



QUAIS DESSAS LINHAS INDICAM, NA FIGURA, UM EIXO DE SIMETRIA?
PINTE DA SUA COR PREFERIDA.