

OS 2º ANOS DA ESCOLA DE JAQUELINE DISPUTARAM UM CAMPEONATO DE FUTEBOL. ALÉM DA MEDALHA PARA O PRIMEIRO LUGAR, FOI ENTREGUE UM PRÊMIO ESPECIAL PARA A EQUIPE QUE FIZESSE MENOS FALTAS.

JAQUELINE ANOTOU AS FALTAS COMETIDAS POR CADA EQUIPE EM CADA UM DOS JOGOS E CONSTRUIU A SEGUINTE TABELA ABAIXO.

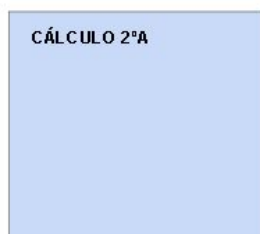
TIMES	FALTAS 1º JOGO	FALTAS 2º JOGO	TOTAL DE FALTAS
2ºA	6	2	
2ºB	8	5	
2ºC	5	0	

RESPONDA:

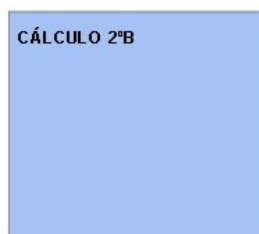
A- QUANTAS FALTAS O 2º A , 2º B E 2º C FIZERAM NO TOTAL?

REGISTRE NOS ESPAÇOS ABAIXO AS OPERAÇÕES QUE VOCÊ FEZ PARA OBTER OS RESULTADOS.

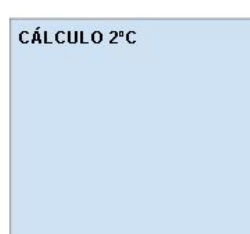
CÁLCULO 2ºA



CÁLCULO 2ºB



CÁLCULO 2ºC



B- QUAL É A DIFERENÇA ENTRE OS NÚMEROS DE FALTAS ENTRE A EQUIPE QUE COMETEU MAIS E MENOS FALTAS? REGISTRE A SUA OPERAÇÃO NO ESPAÇO ABAIXO.

