

Resolução do raio x - MAT3_24PES02

NA ESCOLA DE SAMUEL A DIRETORA REALIZOU UMA PESQUISA E PRECISA REPASSAR OS DADOS COLETADOS SOBRE A NUMERAÇÃO DOS UNIFORMES PARA A PREFEITURA . PARA ISSO ELA CRIOU UMA TABELA.

TABELA DE NUMERAÇÃO DE UNIFORME - DEZEMBRO / 2017

NUMERAÇÃO DO UNIFORME	QUANTIDADE
08	26
10	35
12	40
14	20
16	25
P	10
M	5
G	5

**RESPONSÁVEL PELOS DADOS COLETADOS:
DIRETORA DA ESCOLA**

FOI DECIDIDO QUE O UNIFORME DE MENINOS E MENINAS SERIAM DIFERENCIADOS.

NOVAMENTE A DIRETORA VOLTOU AS PESQUISA REALIZADAS, PORÉM SEPARANDO AGORA A QUANTIDADE DE MENINOS E MENINAS QUE CONTÉM A ESCOLA.

- **EM RELAÇÃO A NUMERAÇÃO 8 METADE SÃO MENINOS E A OUTRA METADE SÃO MENINAS.**
- **NA NUMERAÇÃO 10 SÃO 15 MENINAS E O RESTANTE SÃO MENINOS.**
- **NA NUMERAÇÃO 12 SÃO 5 MENINAS A MENOS QUE A NUMERAÇÃO 10 E OS MENINOS SÃO 30.**
- **A NUMERAÇÃO 14 É COMPOSTO DE 7 MENINOS E 6 MENINAS A MAIS QUE MENINOS.**
- **NO NÚMERO 16 SÃO: 15 MENINOS E 10 MENINAS.**

- **JÁ A NUMERAÇÃO P, M E G SÃO TODAS MASCULINAS.**

SUA TAREFA AGORA É REORGANIZAR AS INFORMAÇÕES EM UMA NOVA TABELA! LEMBRE-SE QUE NA TABELA DEVE CONTER TÍTULO, CABEÇALHO (CONTEÚDO DAS COLUNAS), CORPO (INFORMAÇÕES) E FONTE (PESSOA RESPONSÁVEL PELA PESQUISA). ATENÇÃO! ESTA TABELA TERÁ DUPLA ENTRADA POIS AGORA SEPARAMOS MENINOS E MENINAS.







Uma possível solução pode apoiar-se na leitura de cada afirmação e determinação, através de subtrações, das quantidades de meninos e meninas.








TABELA DE NUMERAÇÃO DE UNIFORMES FEMININOS E MASCULINOS -
DEZEMBRO / 2017

NUMERAÇÃO DO UNIFORME	QUANTIDADE	
	MENINOS	MENINAS
08	13	13
10	20	15
12	30	10
14	07	13
16	15	10
P	10	0
M	5	0
G	5	0

Outra possível solução pode apoiar-se na representação de meninos e de meninas que estão citados na primeira tabela e a ideia de completar a quantidade de 30 crianças.

NUMERAÇÃO DE UNIFORMES MENINOS E MENINAS - DEZEMBRO / 2017

NUMERAÇÃO DO UNIFORME	QUANTIDADE	
	MENINAS	MENINOS
08		
10		
12		

		
14		
16		
P		
M		
G		