






Atividades complementares MAT1_16GRM09

1) OBSERVE OS QUADROS E SEUS RESPECTIVOS CONJUNTOS. ROBERTA PODERÁ GASTAR APENAS R\$ 20,00 EM CADA CONJUNTO. RETIRE PRODUTOS, DEIXANDO OS QUADROS COM O VALOR EXATO QUE ROBERTA POSSUI PARA CADA UM.

DOCES

				
R\$ 6,00	R\$ 4,00	R\$ 7,00	R\$ 8,00	R\$ 2,00

FRUTAS


				
R\$ 5,00	R\$ 7,00	R\$ 5,00	R\$ 3,00	R\$ 6,00

2) EM QUAL COMPRA ROBERTA PAGARÁ MENOS E LEVARÁ MAIS?



R\$ 2,00 CADA

Atividades complementares MAT1_16GRM09



3. DESAFIO

ROBERTA TEM R\$ 100,00. PODERÁ REALIZAR QUATRO COMPRAS DURANTE O MÊS GASTANDO R\$25,00 EM CADA UMA. SE EM CADA COMPRA ROBERTA POUPAR R\$5,00, QUANTO CONSEGUIRÁ ECONOMIZAR AO FINAL DO MÊS? DESENHE SUA ESTRATÉGIA DE RESOLUÇÃO.
