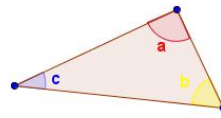


1) Vocês se lembram qual é a soma das medidas dos ângulos internos de um triângulo?

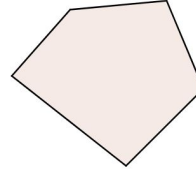
No triângulo abaixo, qual o valor de $a + b + c$?



2) Agora você tem um desafio:

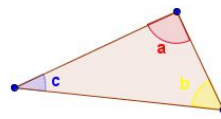
1º) Marque os ângulos internos do pentágono.

2º) Calcule a soma das medidas desses ângulos.



1) Vocês se lembram qual é a soma das medidas dos ângulos internos de um triângulo?

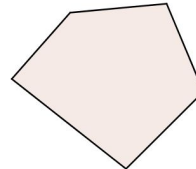
No triângulo abaixo, qual o valor de $a + b + c$?



2) Agora você tem um desafio:

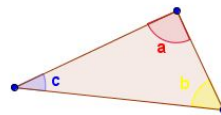
1º) Marque os ângulos internos do pentágono.

2º) Calcule a soma das medidas desses ângulos.



1) Vocês se lembram qual é a soma das medidas dos ângulos internos de um triângulo?

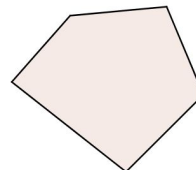
No triângulo abaixo, qual o valor de $a + b + c$?



2) Agora você tem um desafio:

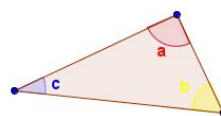
1º) Marque os ângulos internos do pentágono.

2º) Calcule a soma das medidas desses ângulos.



1) Vocês se lembram qual é a soma das medidas dos ângulos internos de um triângulo?

No triângulo abaixo, qual o valor de $a + b + c$?



2) Agora você tem um desafio:

1º) Marque os ângulos internos do pentágono.

2º) Calcule a soma das medidas desses ângulos.

