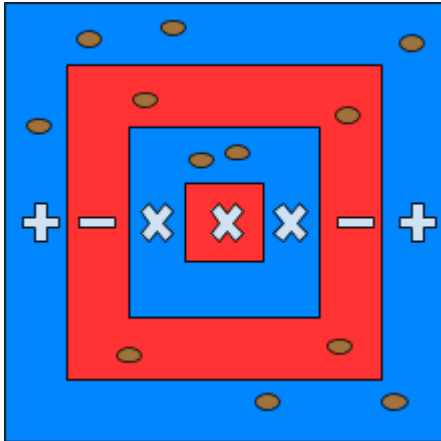
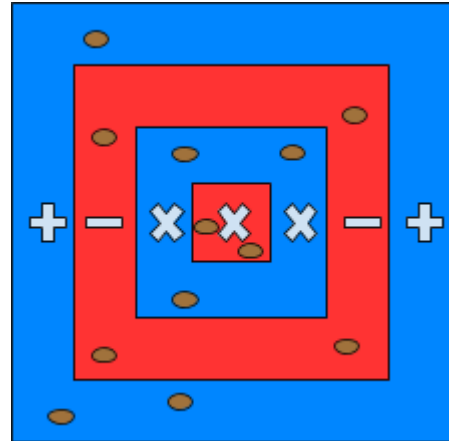


Ao jogar o jogo "Quem tem mais?", Felipe e Maria jogaram 12 sementes de feijão, obtendo os seguintes resultados.

Felipe:



Maria:

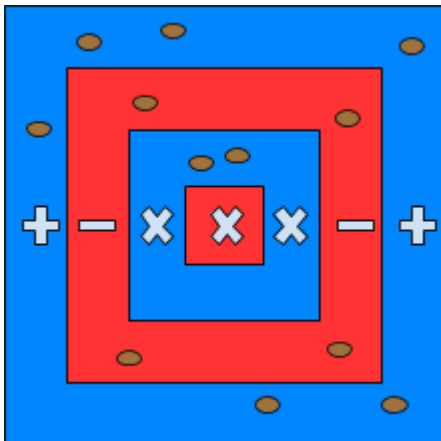


- Registre a expressão numérica obtida por Felipe.
- Registre a expressão numérica obtida por Maria.
- Quem fez mais pontos e foi o vencedor do jogo?

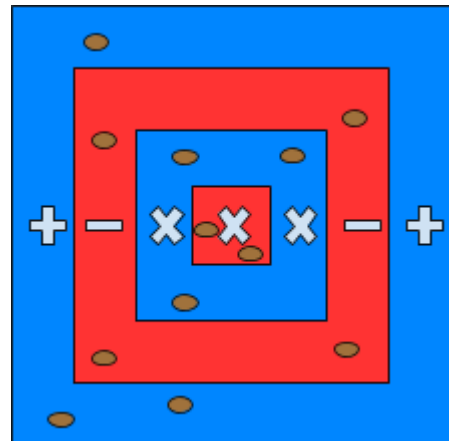
---

Ao jogar o jogo "Quem tem mais?", Felipe e Maria jogaram 12 sementes de feijão, obtendo os seguintes resultados.

Felipe:



Maria:



- Registre a expressão numérica obtida por Felipe.
- Registre a expressão numérica obtida por Maria.
- Quem fez mais pontos e foi o vencedor do jogo?