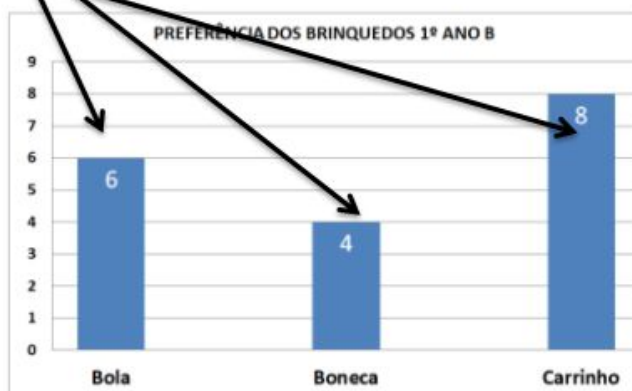


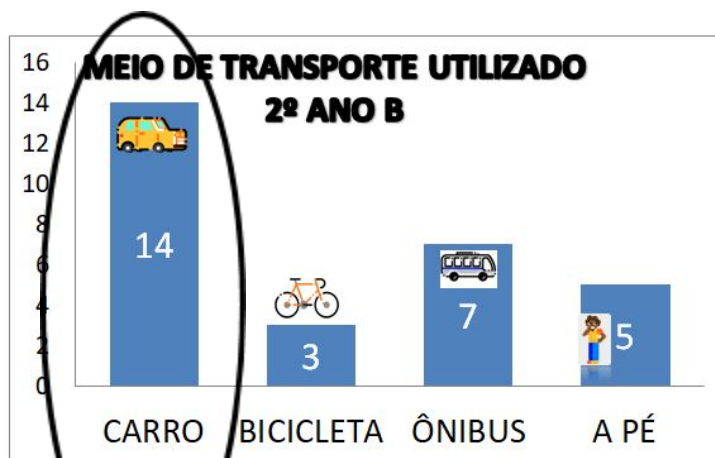
**Resolução atividade complementar - MAT1\_18PES02**

1)

PREFERÊNCIA DOS BRINQUEDOS 1º ANO B	
BOLA	6
BONECA	4
CARRINHO	8

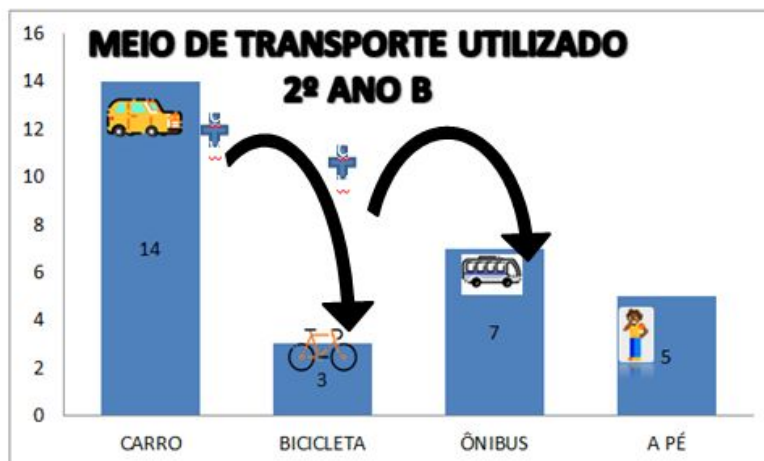


2) As crianças devem relacionar o mais utilizado com a barra maior.



**[DESAFIO]**

7	
24	x
3	



Primeiramente, devem pensar quais são os meios de transporte que o problema solicita e concluir que a única barra que não devem somar é a referente a quem vem à pé para escola. Há várias maneiras lógicas que os alunos podem usar para concluir a resposta. Uma é a de que 7 e 3, que estão nas alternativas, são números muito pequenos, pois se juntarem as quantidades que cada barra representa o número deve ser muito maior. É provável que muitos deduzam de outras maneiras, por exemplo: só olhando a barra das bicicletas e eliminando o 3, ou olhando a barra de ônibus e eliminando o 7, entre outras estratégias.