
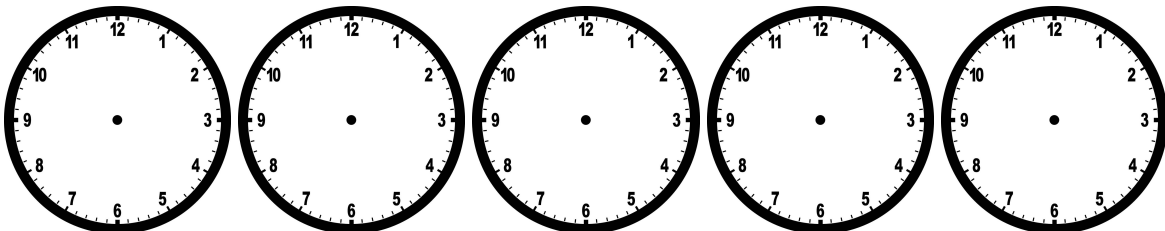


1 - CAROLINA TOMOU CAFÉ DA MANHÃ ÀS 8 HORAS E 10 MINUTOS. DEPOIS DE 3 HORAS, ALMOÇOU. QUAL FOI O HORÁRIO DE ALMOÇO DA CAROLINA? MARQUE NOS RELÓGIOS ANALÓGICOS O HORÁRIO DO CAFÉ DA MANHÃ E DO ALMOÇO:




2 - ACOMPANHE A ROTINA DA ALIMENTAÇÃO DE GUILHERME DURANTE UM DIA:
CAFÉ DA MANHÃ 8 HORAS
ALMOÇO 12 HORAS
LANCHE DA TARDE 15 HORAS
JANTAR 18 HORAS
LANCHE DA NOITE 22 HORAS

MARQUE NOS RELÓGIOS ABAIXO O HORÁRIO DE CADA ALIMENTAÇÃO:



OS PROFISSIONAIS DA SAÚDE RECOMENDAM QUE DEVEMOS NOS ALIMENTAR DE 3 EM 3 HORAS. SENDO ASSIM, GUILHERME ESTÁ SE ALIMENTANDO NOS HORÁRIOS CORRETOS?

3 - [DESAFIO] CAUÊ E BRUNO QUERIAM FAZER UM LANCHE. CAUÊ QUERIA PIZZA, E BRUNO HAMBÚRGUER. A MÃE DELES TEVE QUE PEDIR EM LUGARES DIFERENTES. LIGOU PARA A PIZZARIA ÀS 19 HORAS, A ATENDENTE DISSE QUE ENTREGARIA EM 40 MINUTOS. LIGOU PARA A LANCHONETE ÀS 19 HORAS E 10 MINUTOS, E A ATENDENTE PEDIU MEIA HORA PARA ENTREGAR. MARQUE NOS RELÓGIOS ABAIXO O HORÁRIO QUE A MÃE DOS MENINOS LIGOU FAZENDO OS PEDIDOS E O PRAZO DE ENTREGA:



QUAL CHEGOU PRIMEIRO, O HAMBÚRGUER OU A PIZZA?
