






**Resolução da atividade principal - MAT5\_06NUM01**

Dentre os corte de pizza entregues, estas são as respostas possíveis que os alunos encontrarão para representar metade da pizza (um meio):

	$2/4$
	$3/6$
	$4/8$
	$5/10$
	$6/12$