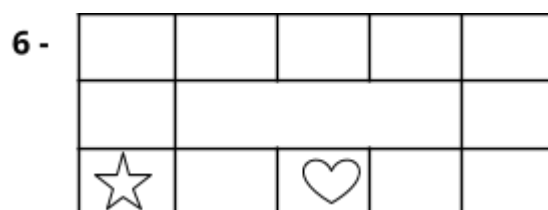
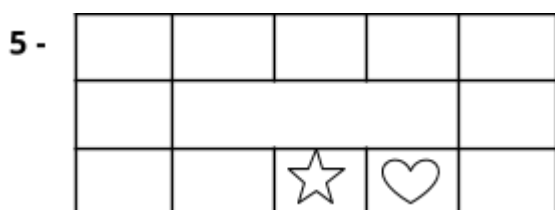

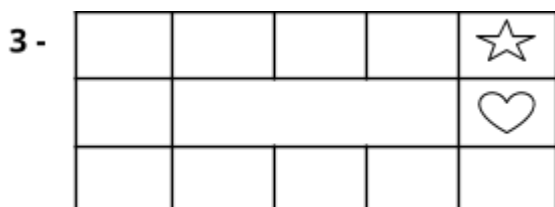
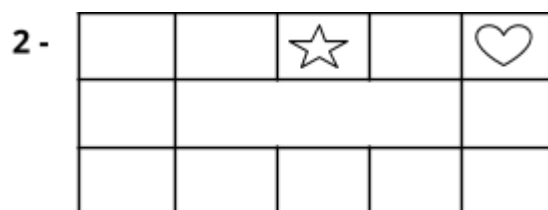
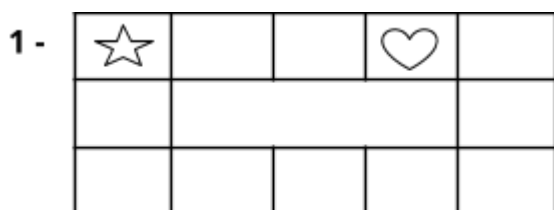


Atividades Complementares - MAT5_26RDP05

1 - Carlos possui três filhos e sabe que ao somar as idades deles tem como resposta um número par. Ao multiplicar as três idades, tem como resposta o número 36 e a diferença da idade entre o filho mais velho e o mais novo é de apenas 1 ano. Qual a idade dos filhos de Carlos?



2 - Na aula de Matemática na turma do quinto ano, a professora Sara apresentou uma sequência de figuras, pediu que todos observassem com muita atenção.



Depois de um tempo a professora escolheu o aluno Carlos e solicitou que ele estabelecesse relações com esta sequência. Que relações Carlos pode estabelecer sobre os movimentos da estrela e do coração?

DESAFIO

Procurando manter uma vida saudável, com alimentação balanceada e prática de exercícios, Ana incluiu em sua rotina atividades físicas diárias. Com a orientação de um profissional, ela começou a realizar caminhadas de três em três dias, e depois que atingisse a marca da centésima caminhada, poderia passar para corrida. Sabendo que ela realizou a primeira caminhada no domingo 01 de Janeiro de 2017, em que dia Ana realizará a primeira corrida?

