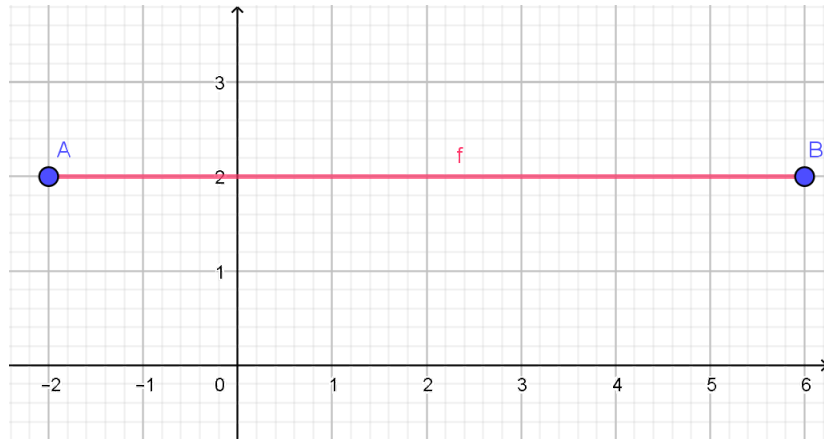
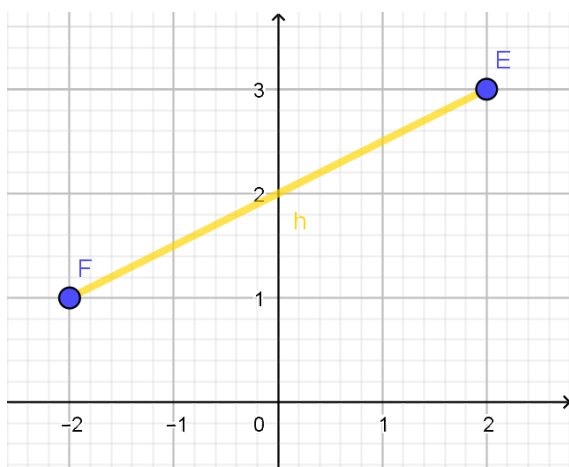
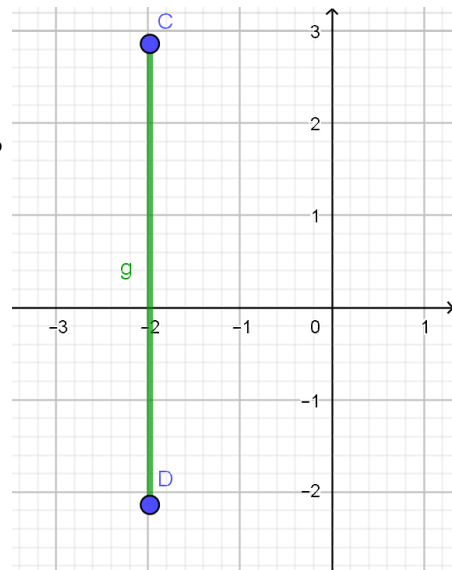


Quais as coordenadas dos pontos A e B? Qual a medida do segmento?
Marque um ponto C exatamente no meio do segmento AB. Quais as coordenadas do ponto C?



Quais as coordenadas dos pontos C e D? Qual a medida do segmento?
Marque um ponto E exatamente no meio do segmento EF. Quais as coordenadas do ponto E?



Quais as coordenadas dos pontos E e F?
Qual a medida do segmento?
Marque um ponto G exatamente no meio do segmento EF. Quais as coordenadas do ponto G?