






## Atividade raio x \_ MAT5\_12 ALG02

Observe a sequência e complete o quadro.

					
Número da figura	1	2	3	4	5

a) Quantos sorvetes será preciso para construir a figura 8?

---







b) Ao desenhar 25 sorvetes que figura estarei construindo?

---

---

## Atividade raio x \_ MAT5\_12 ALG02

Observe a sequência e complete o quadro.

					
Número da figura	1	2	3	4	5

a) Quantos sorvetes será preciso para construir a figura 8?

---

b) Ao desenhar 25 sorvetes que figura estarei construindo?

---