



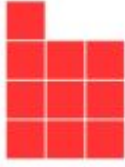




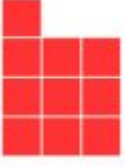


Observe o quadro abaixo e responda:

Número da Figura	1	2	3	4	5
Figura					

- a) Existe alguma relação entre o número da figura e a quantidade de quadrados nela?
- b) É possível estabelecer uma relação matemática entre o número da figura e a quantidade de quadrados?
-

Observe o quadro abaixo e responda:

Número da Figura	1	2	3	4	5
Figura					

- a) Existe alguma relação entre o número da figura e a quantidade de quadrados nela?
- b) É possível estabelecer uma relação matemática entre o número da figura e a quantidade de quadrados?