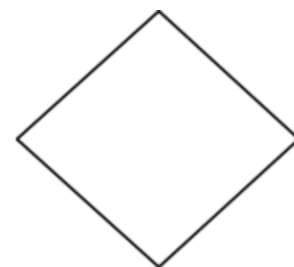




1) SUA PROFESSORA VAI DITAR ALGUNS PROBLEMAS. VOCÊ VAI CALCULAR MENTALMENTE E REGISTRAR O RESULTADO NAS FORMAS GEOMÉTRICAS ABAIXO:



---

2) CALCULE QUANTO CADA NÚMERO ABAIXO TEM A MAIS DO QUE 500.

1100 \_\_\_\_\_ 1050 \_\_\_\_\_ 1210 \_\_\_\_\_ 1000 \_\_\_\_\_ 1300 \_\_\_\_\_

---

3) **DESAFIO:** JOÃO PAULO E FERNANDO TÊM JUNTOS 980 FIGURINHAS. SABENDO QUE FERNANDO TEM 380 FIGURINHAS A MAIS QUE JOÃO PAULO, CALCULE A QUANTIDADE DE FIGURINHAS DAS DUAS CRIANÇAS.

---

4) CALCULE MENTALMENTE E MARQUE A 2ª COLUNA DE ACORDO COM A 1ª:

( A ) 300 A MAIS QUE 1000

(   ) 1000

( B ) 400 A MENOS QUE 1050

(   ) 650

( C ) 690 A MAIS QUE 310

(   ) 1300

( D ) 800 A MENOS QUE 1250

(   ) 450

