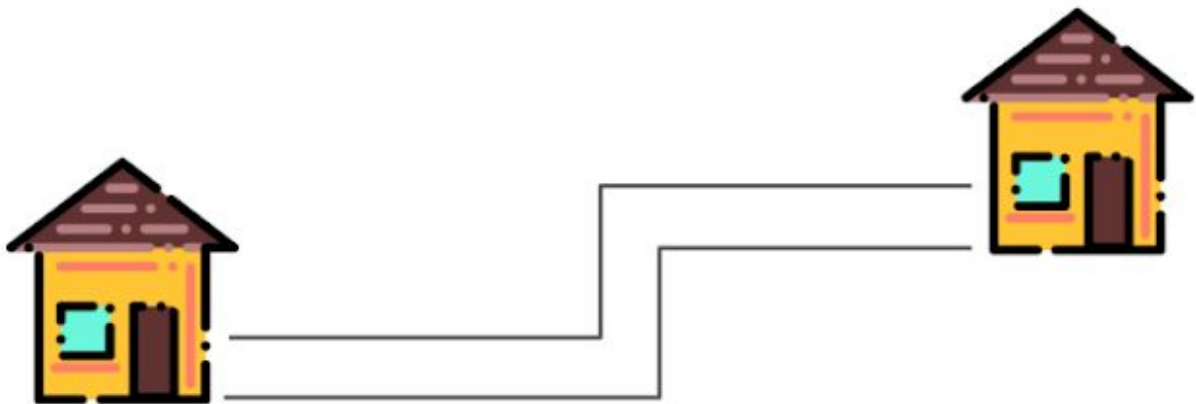


Resolução das Atividades Complementares - MAT2_14GEO03

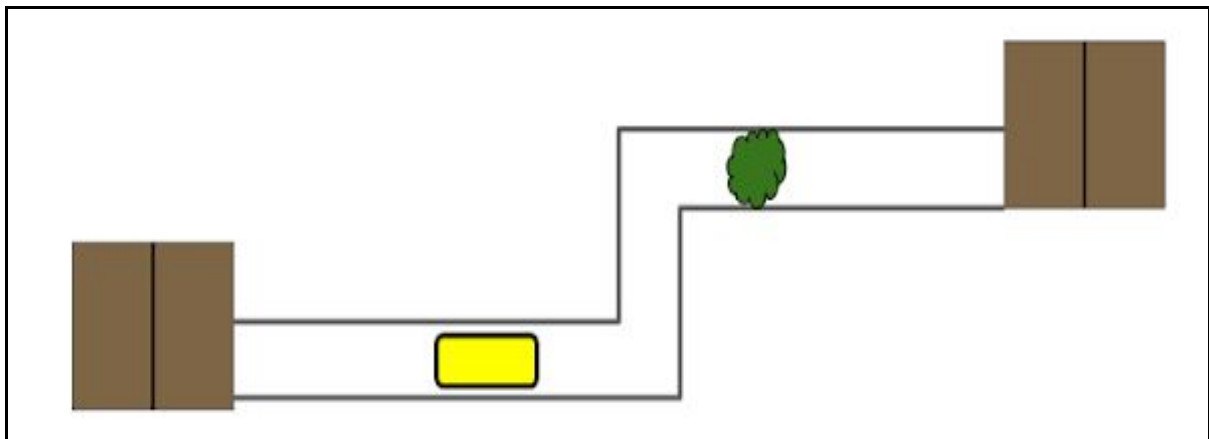
- 1) MARIA SAIU DE SUA CASA PARA BRINCAR COM SUA AMIGA MARIANA. NO CAMINHO ELA PASSOU POR UM ÔNIBUS E UMA ÁRVORE.

ESTE É O CAMINHO PERCORRIDO!



NO ESPAÇO ABAIXO FAÇA A PLANTA BAIXA DAS CASAS E DO QUE MARIA ENCONTROU NO CAMINHO:

Possível resolução:



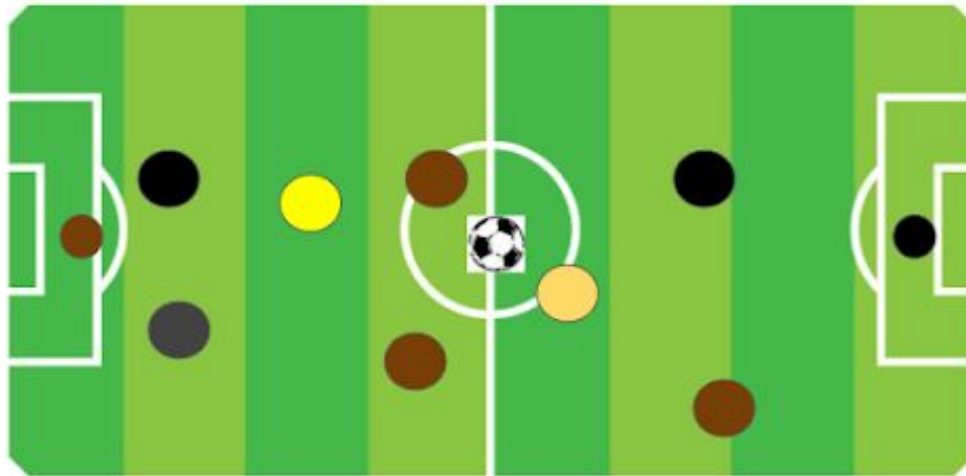
2)

ESTE É CAUÊ!



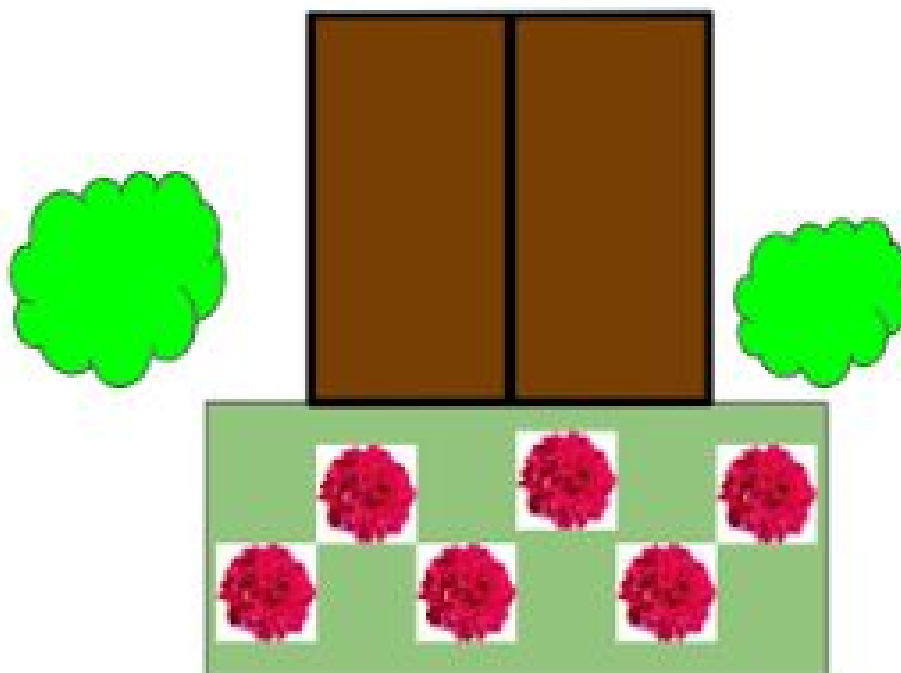
PERTO DA CASA DE CAUÊ TEM UM CAMPO DE FUTEBOL. ELE MAIS 9 AMIGOS PASSARAM A TARDE DE DOMINGO JOGANDO BOLA NESTE CAMPO. VOCÊ CONSEGUE REPRESENTAR A PLANTA BAIXA DESTE JOGO? DESENHE A BOLA NO CENTRO DO CAMPO.

Possível resolução:



DESAFIO:

VOCÊ CONSEGUE DESCOBRIR O QUE ESTÁ REPRESENTADO NESTAS PLANTAS BAIXAS? FAÇA O DESENHO ABAIXO IMAGINANDO A VISTA DE FRENTE E COMPLETE DESENHANDO VOCÊ EM FRENTE À CASA:



Possível resolução:

