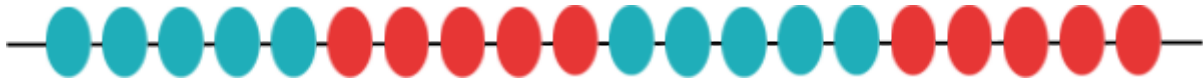


Atividades complementares - MAT1_03NUM09

1) OBSERVE OS FIOS DE CONTAS

a) FAÇA O QUE SE PEDE:



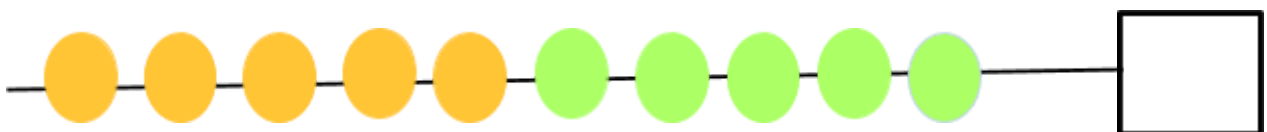

- CONTE 10 CONTAS. VERIFIQUE QUANTOS GRUPOS DE 5 EXISTEM NO NÚMERO 10. _____
- CONTE 15 CONTAS. VERIFIQUE QUANTOS GRUPOS DE 5 EXISTEM NO NÚMERO 15. _____

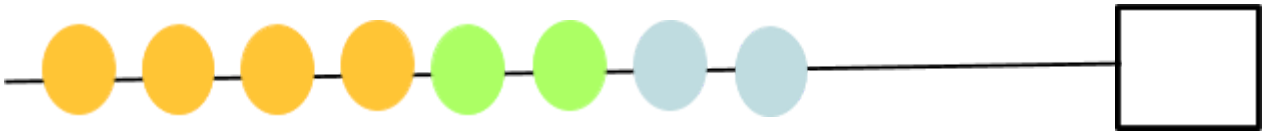
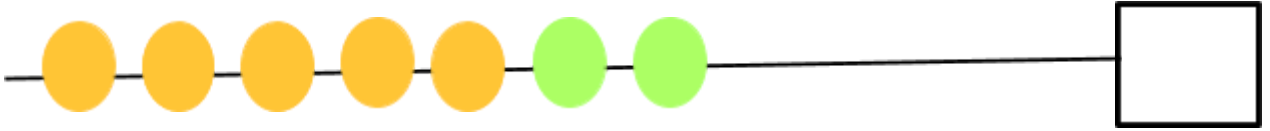
B) AINDA TRABALHANDO COM O FIO DE CONTAS, RESOLVA:



- CONTE 20 CONTAS. VERIFIQUE QUANTOS GRUPOS DE 5 EXISTEM NO NÚMERO 20. _____
- CONTE 30 CONTAS. VERIFIQUE QUANTOS GRUPOS DE 10 EXISTEM NO NÚMERO 30. _____

2) PREENCHA OS QUADRADINHOS COM A QUANTIDADE TOTAL DE BOLAS COLORIDAS NOS FIOS DE CONTAS.





3) [DESAFIO]: PAULO TEM 5 BALAS DE CHOCOLATE E COMPROU MAIS 7 DE CAMELO. QUANTAS BALAS PAULO TEM AO TODO?

UTILIZE O FIO DE CONTAS PARA RESOLVER A SITUAÇÃO-PROBLEMA ACIMA. FAÇA O REGISTRO FAZENDO MARCAÇÕES NO FIO DE CONTAS DE COMO IRÁ RESOLVÊ-LA.

