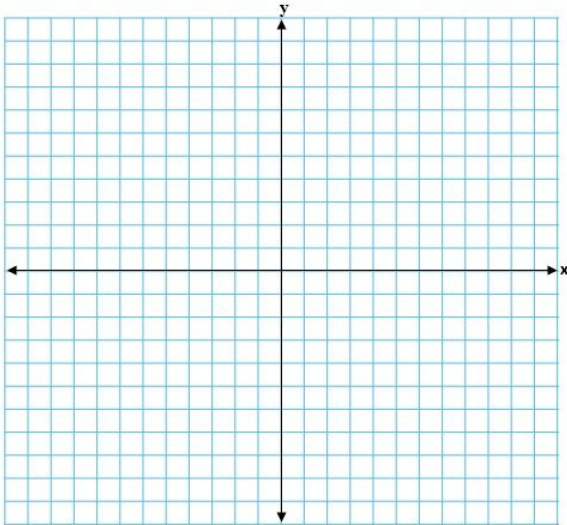


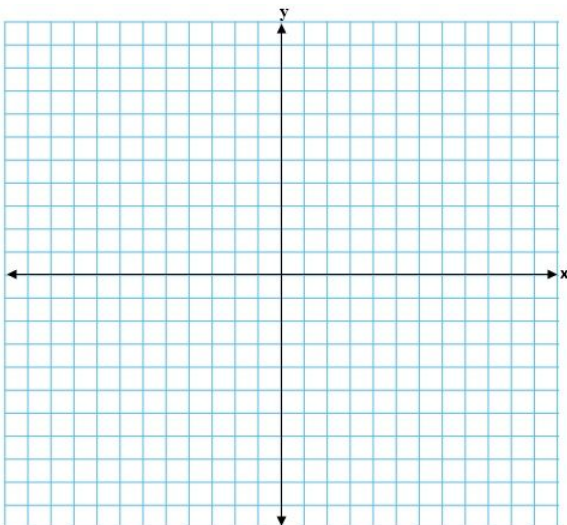
Atividade de aquecimento - MAT7_15GEO03

Para iniciarmos nossa aula, marque os cinco pontos a seguir no plano cartesiano abaixo e ligue-os formando um polígono. A (2, 4); B (-3, 5); C (-4, -2); D (0, -6); e (4, -5).



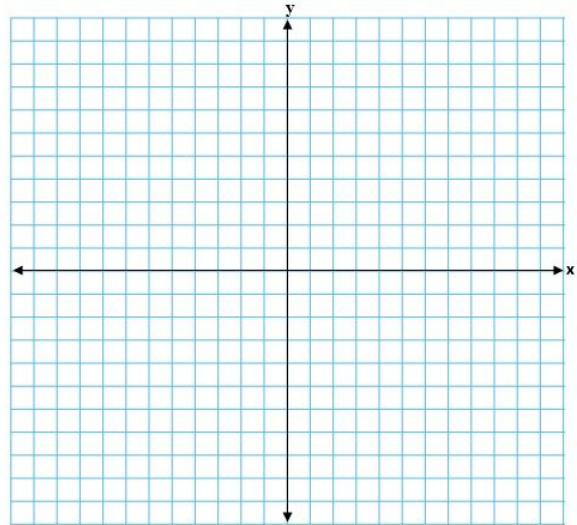
Atividade de aquecimento - MAT7_15GEO03

Para iniciarmos nossa aula, marque os cinco pontos a seguir no plano cartesiano abaixo e ligue-os formando um polígono. A (2, 4); B (-3, 5); C (-4, -2); D (0, -6); e (4, -5).



Atividade de aquecimento - MAT7_15GEO03

Para iniciarmos nossa aula, marque os cinco pontos a seguir no plano cartesiano abaixo e ligue-os formando um polígono. A (2, 4); B (-3, 5); C (-4, -2); D (0, -6); e (4, -5).



Atividade de aquecimento - MAT7_15GEO03

Para iniciarmos nossa aula, marque os cinco pontos a seguir no plano cartesiano abaixo e ligue-os formando um polígono. A (2, 4); B (-3, 5); C (-4, -2); D (0, -6); e (4, -5).

