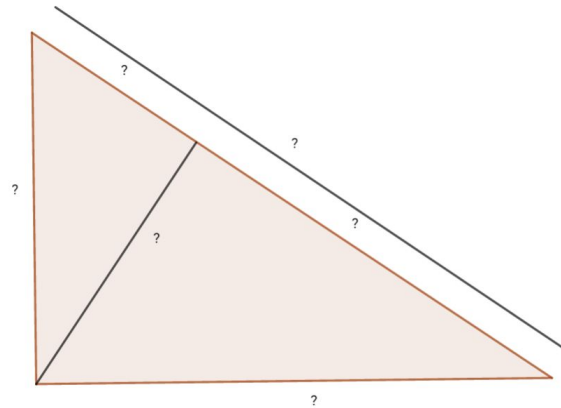


Considere o triângulo retângulo abaixo e coloque adequadamente as medidas que estão no quadro. Mostre que são válidas as relações métricas.

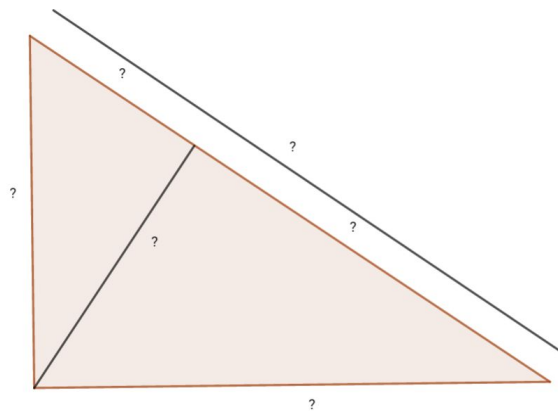
- |         |
|---------|
| 7,2 uc  |
| 9,6 uc  |
| 12 uc   |
| 12,8 uc |
| 16 uc   |
| 20 uc   |



-----

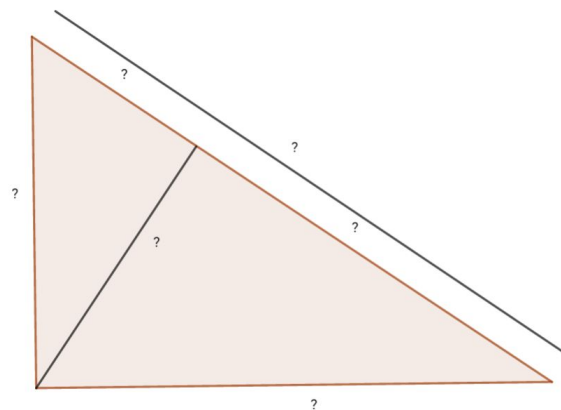
Considere o triângulo retângulo abaixo e coloque adequadamente as medidas que estão no quadro. Mostre que são válidas as relações métricas.

- |         |
|---------|
| 7,2 uc  |
| 9,6 uc  |
| 12 uc   |
| 12,8 uc |
| 16 uc   |
| 20 uc   |



-----

Considere o triângulo retângulo abaixo e coloque adequadamente as medidas que estão no quadro. Mostre que são válidas as relações métricas.



7,2 uc

9,6 uc

12 uc

12,8 uc

16 uc

20 uc