


Resolução das Atividades complementares - MAT1_03NUM10

1) MARQUE NO COLAR E RETA NUMERADA O NÚMERO 5. SE JUNTAR MAIS 7 VAI OBTER O NÚMERO? ____

___ 1 ___ 2 ___ 3 ___ 4 ___ 5 ___ 6 ___ 7 ___ 8 ___ 9 ___ 10 ___ 11 ___ 12 ___ 13 ___ 14 ___ 15 ___ 16 ___ 17 ___ 18 ___ 19 ___ 20 ___



Resposta: o número 12.

2) UTILIZANDO A RETA NUMERADA E O FIO DE CONTAS, RESOLVA:

Resposta:


10 MAIS 5 = 15

___ 1 ___ 2 ___ 3 ___ 4 ___ 5 ___ 6 ___ 7 ___ 8 ___ 9 ___ 10 ___ 11 ___ 12 ___ 13 ___ 14 ___ 15 ___ 16 ___ 17 ___ 18 ___ 19 ___ 20 ___



10 MAIS 7 = 17

___ 1 ___ 2 ___ 3 ___ 4 ___ 5 ___ 6 ___ 7 ___ 8 ___ 9 ___ 10 ___ 11 ___ 12 ___ 13 ___ 14 ___ 15 ___ 16 ___ 17 ___ 18 ___ 19 ___ 20 ___




11 MAIS 5 = 16

___ 1 ___ 2 ___ 3 ___ 4 ___ 5 ___ 6 ___ 7 ___ 8 ___ 9 ___ 10 ___ 11 ___ 12 ___ 13 ___ 14 ___ 15 ___ 16 ___ 17 ___ 18 ___ 19 ___ 20 ___



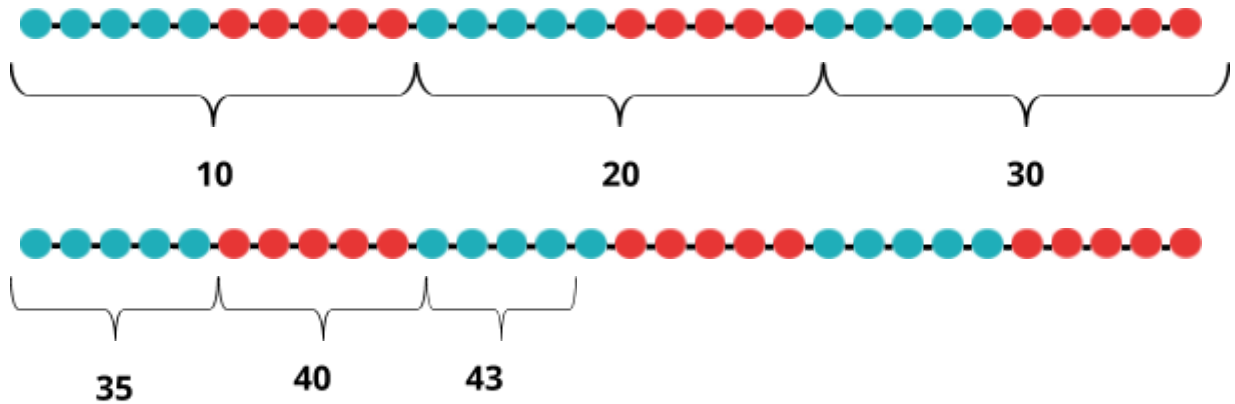
9 MAIS 8 = 17

___ 1 ___ 2 ___ 3 ___ 4 ___ 5 ___ 6 ___ 7 ___ 8 ___ 9 ___ 10 ___ 11 ___ 12 ___ 13 ___ 14 ___ 15 ___ 16 ___ 17 ___ 18 ___ 19 ___ 20 ___



3) [DESAFIO]: MARIA USOU O FIO DE CONTAS PARA DESCOBRIR QUANTOS REAIS ELA TEM NO COFRINHO. ONTEM ELA TINHA 26 REAIS E HOJE SUA MÃE LHE DEU 17 REAIS.

VEJA COMO ELA FEZ PARA DESCOBRIR O TOTAL E EXPLIQUE QUE SEQUÊNCIAS ELA USOU E COMO.



Resposta: sequências utilizadas foram as de 10 em 10, 5 em 5 e a sobra de mais 3.