

Atividade de Raio X - MA7_07NUM05

Cada ficha abaixo corresponde a uma letra representada na reta numerada.

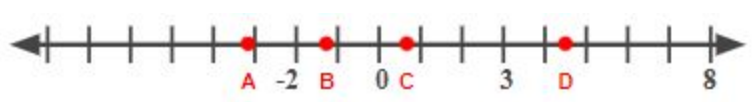
A qual número racional corresponde cada letra?

$$\frac{3}{4}$$

$$-3,18$$

$$4,53$$

$$-\frac{6}{5}$$



Cada ficha abaixo corresponde a uma letra representada na reta numerada.

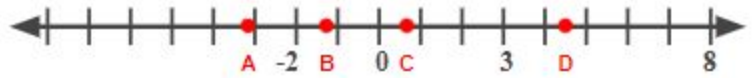
A qual número racional corresponde cada letra?

$$\frac{3}{4}$$

$$-3,18$$

$$4,53$$

$$-\frac{6}{5}$$



Cada ficha abaixo corresponde a uma letra representada na reta numerada.

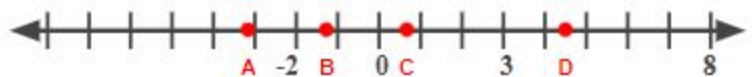
A qual número racional corresponde cada letra?

$$\frac{3}{4}$$

$$-3,18$$

$$4,53$$

$$-\frac{6}{5}$$



Cada ficha abaixo corresponde a uma letra representada na reta numerada.

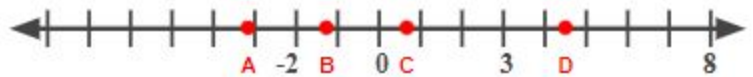
A qual número racional corresponde cada letra?

$$\frac{3}{4}$$

$$-3,18$$

$$4,53$$

$$-\frac{6}{5}$$



Cada ficha abaixo corresponde a uma letra representada na reta numerada.

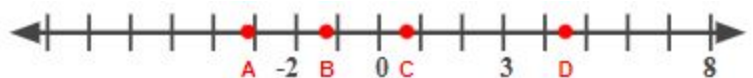
A qual número racional corresponde cada letra?

$$\frac{3}{4}$$

$$-3,18$$

$$4,53$$

$$-\frac{6}{5}$$



Cada ficha abaixo corresponde a uma letra representada na reta numerada.

A qual número racional corresponde cada letra?

$$\frac{3}{4}$$

$$-3,18$$

$$4,53$$

$$-\frac{6}{5}$$

