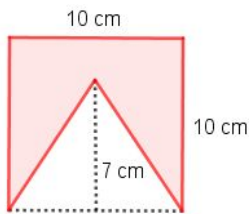
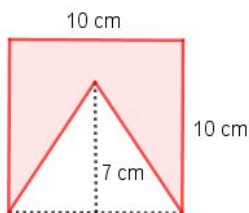


Para enfeitar a festa de uma escola, os alunos resolveram confeccionar bandeirinhas a partir de folhas de papel quadradas, recortando de cada uma delas um triângulo com 7 cm de altura conforme a figura abaixo. Qual a área de papel desperdiçada para fazer cada bandeirinha?



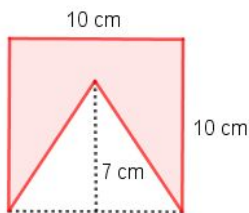
---

Para enfeitar a festa de uma escola, os alunos resolveram confeccionar bandeirinhas a partir de folhas de papel quadradas, recortando de cada uma delas um triângulo com 7 cm de altura conforme a figura abaixo. Qual a área de papel desperdiçada para fazer cada bandeirinha?



---

Para enfeitar a festa de uma escola, os alunos resolveram confeccionar bandeirinhas a partir de folhas de papel quadradas, recortando de cada uma delas um triângulo com 7 cm de altura conforme a figura abaixo. Qual a área de papel desperdiçada para fazer cada bandeirinha?



---

Para enfeitar a festa de uma escola, os alunos resolveram confeccionar bandeirinhas a partir de folhas de papel quadradas, recortando de cada uma delas um triângulo com 7 cm de altura conforme a figura abaixo. Qual a área de papel desperdiçada para fazer cada bandeirinha?

