





1. JOÃO, ANA, MARIA E CAROLINA ESTAVAM JOGANDO "BATALHA DUPLA DA ADIÇÃO". OBSERVE OS PONTOS OBTIDOS POR CADA DUPLA, EM CADA RODADA.

RODADA.	 JOÃO	 ANA	 MARIA	 CAROLINA
PRIMEIRA	5	8	7	3
SEGUNDA	1	10	9	9
TERCEIRA	5	10	3	9
QUARTA	8	10	4	8

AGORA, RESPONDA:

- QUAL DAS DUPLAS GANHOU A PRIMEIRA RODADA? POR QUE?
- QUAL DAS DUPLAS GANHOU A SEGUNDA RODADA? POR QUE?
- QUAL DAS DUPLAS GANHOU A TERCEIRA RODADA? POR QUE?
- QUAL DAS DUPLAS GANHOU A QUARTA RODADA? POR QUE?
- QUAL DAS DUPLAS GANHOU O JOGO? POR QUE?

2. DESCUBRA O VALOR DO NÚMERO QUE ESTÁ FALTANDO, PARA QUE A SOMA FIQUE CORRETA:

9	?	17
?	7	16
10	?	20
?	5	14
4	?	12

3. "(DESAFIO)" BRUNO TEM OITO ANOS DE IDADE. ELE QUER SABER QUAL É A IDADE DE SUA AMIGA . ELA, POR SUA VEZ, PARA BRINCAR COM BRUNO, RESOLVEU LANÇAR-LHE UM ENIGMA.

A sua idade adicionada à minha tem como resultado o número 17. Quantos anos eu tenho?

