


1. Mariana comprou sete peras para dividir entre suas duas filhas. Marque os quadrinhos que possuem maneiras de se representar com quantas peras cada uma de suas filhas recebeu.



$$\frac{7}{2}$$

$$\frac{2}{7}$$

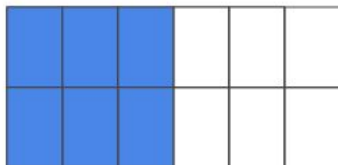
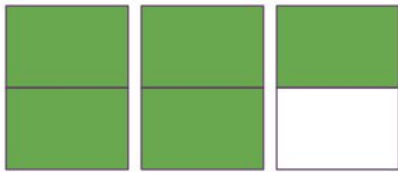

$$3\frac{2}{7}$$

$$3\frac{1}{2}$$

$$5$$

$$3,5$$

2. Ligue as imagens à representação fracionária ou decimal correspondente à parte colorida:



$$2,5$$

$$\frac{1}{2}$$

$$0,1$$

### Desafio

Ana vai precisar de nove ovos para fazer um bolo de aniversário grande. Porém as bandejas de ovos que são vendidas no supermercado são iguais à que está apresentada abaixo. Quantas bandejas de ovos Ana precisará comprar? Que fração e que número decimal representa a quantidade de ovos que Ana precisará?

