






## ATIVIDADES COMPLEMENTARES - MAT2\_05NUM05



1- LIGUE AS QUANTIDADES DO QUADRO VALOR DE LUGAR (Q.V.L) DE ACORDO COM A LEGENDA ABAIXO.

ORDENS	VALORES
1 UNIDADE	
1 DEZENA	
1 CENTENA	


100

C	D	U
		

67

C	D	U
		

24

C	D	U
		

2- EFETUE AS SUBTRAÇÕES ABAIXO UTILIZANDO O QUADRO VALOR DE LUGAR (Q.V.L). DESENHE OS PALITOS.

A)  $69 - 26 =$

D	U

LOGO:  $69 - 26 =$


B) B- 73 - 5 =

D	U

LOGO: 73 - 5 =

### 3- QUESTÃO "DESAFIO".

A PROFESSORA ANA MARIA PASSOU PARA ATIVIDADE DE CASA A OPERAÇÃO ABAIXO.

**49 - 12 =** 

NO DIA SEGUINTE, DIEGO, MARIANA E HEITOR TROUXERAM CADA UM, UMA RESOLUÇÃO DIFERENTE.

**HEITOR**

**MARIANA**

$$\begin{array}{r} 40 + 9 \\ - 10 + 2 \\ \hline 50 + 11 \\ \hline 61 \end{array}$$

**DIEGO**

$$\begin{array}{r} 49 \\ - 12 \\ \hline 27 \end{array}$$

RESPONDA:

A- QUEM ACERTOU O RESULTADO DA SUBTRAÇÃO ?

---

B- QUEM ERROU A SUBTRAÇÃO?

---

C- DESCREVA QUAIS FORAM OS ERROS QUE LEVARAM ALGUNS ALUNOS A NÃO ACERTAREM A SUBTRAÇÃO.

---