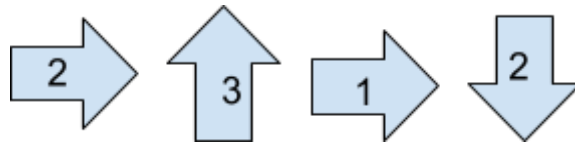
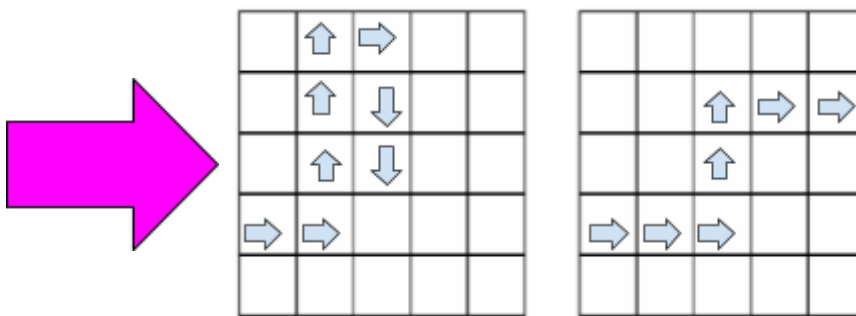


## Resolução das Atividades Complementares - MAT4\_17GEO 05

1. Observe as instruções e marque com um X a resposta correta:

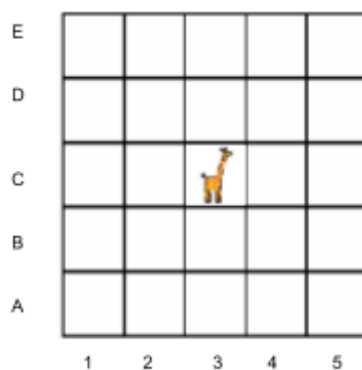


Qual dos trajetos abaixo, corresponde às instruções dadas?



O trajeto que corresponde às instruções dadas é o **primeiro**, pois segue exatamente o caminho indicado pelas setas.

2. Observe a malha quadriculada abaixo:

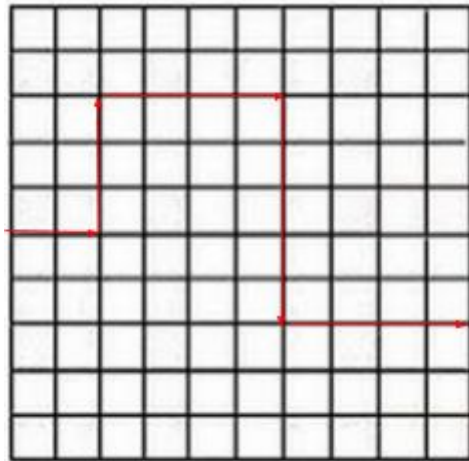


- Em que posição se encontra a girafa?  
(B) C3
- Para chegar no E3, por qual casa a girafa passará?  
(B) D3

Utilize as nomenclaturas HORIZONTAL e VERTICAL, levando os alunos a identificarem em que posição referente à letra e ao número se localiza a girafa.

### 3. Desafio!

Observe o caminho traçado na malha quadriculada abaixo:



Desenhe a instrução desse caminho com setas:

